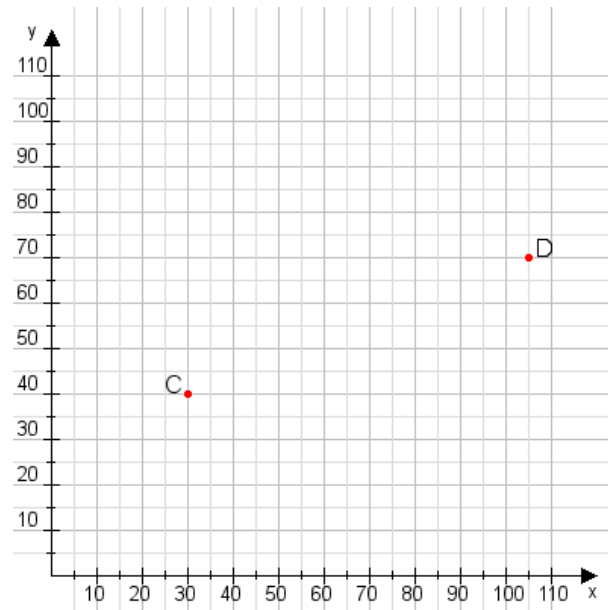


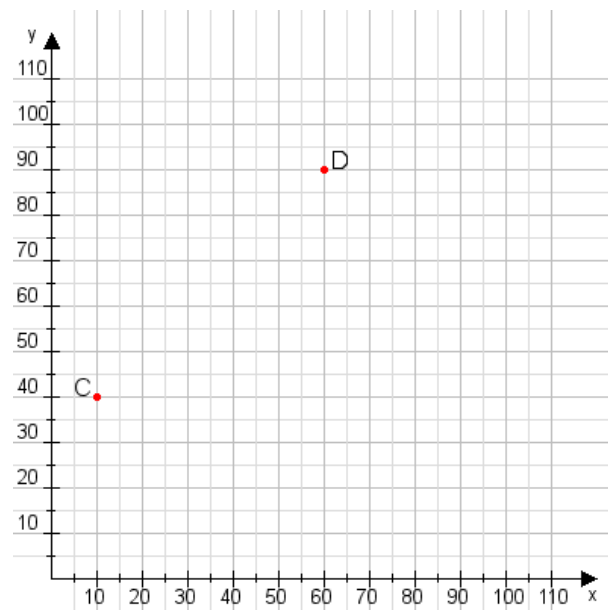
Aufgabe 1:

Zeichne den Punkt A(30|50) und den Punkt B(110|110) in das Koordinatensystem ein und verbinde beide Punkte miteinander. Verbinde die Eingetragenen Punkte C, D und ermittle deren Koordinaten.



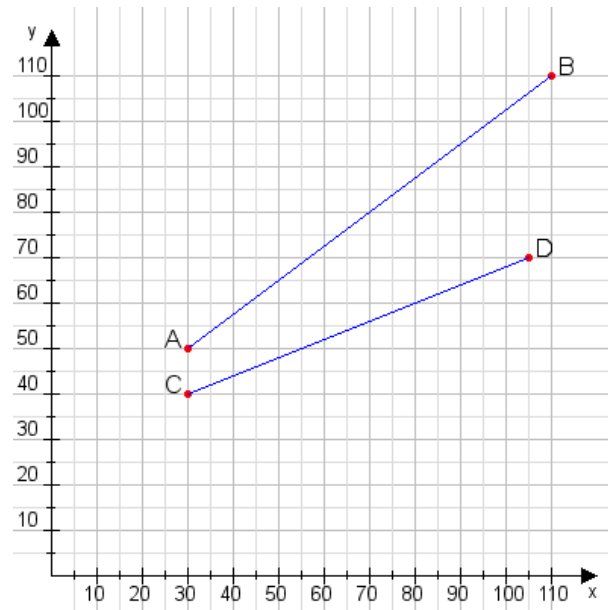
Aufgabe 2:

Zeichne den Punkt A(40|20) und den Punkt B(75|60) in das Koordinatensystem ein und verbinde beide Punkte miteinander. Verbinde die Eingetragenen Punkte C, D und ermittle deren Koordinaten.



Aufgabe 1:

C(30|40), D(105|70)



Aufgabe 2:

C(10|40), D(60|90)

