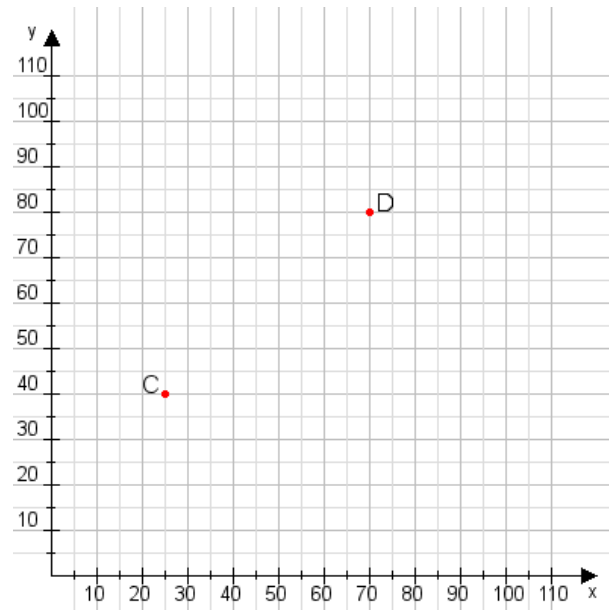


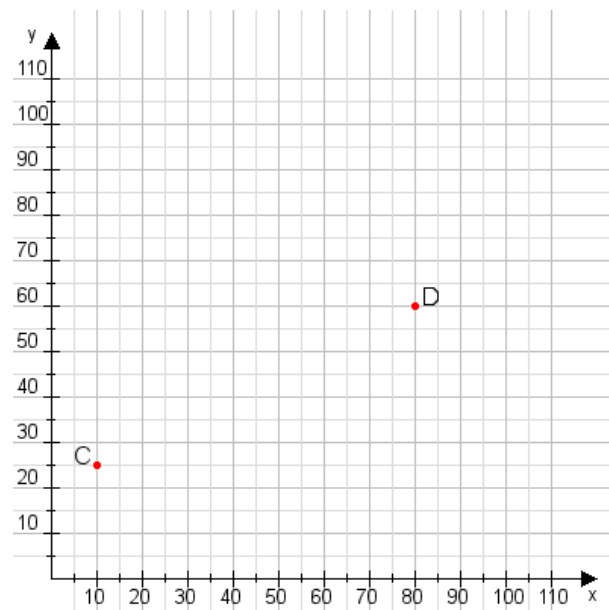
Aufgabe 1:

Zeichne den Punkt A(55|40) und den Punkt B(70|115) in das Koordinatensystem ein und verbinde beide Punkte miteinander. Verbinde die Eingetragenen Punkte C, D und ermittle deren Koordinaten.



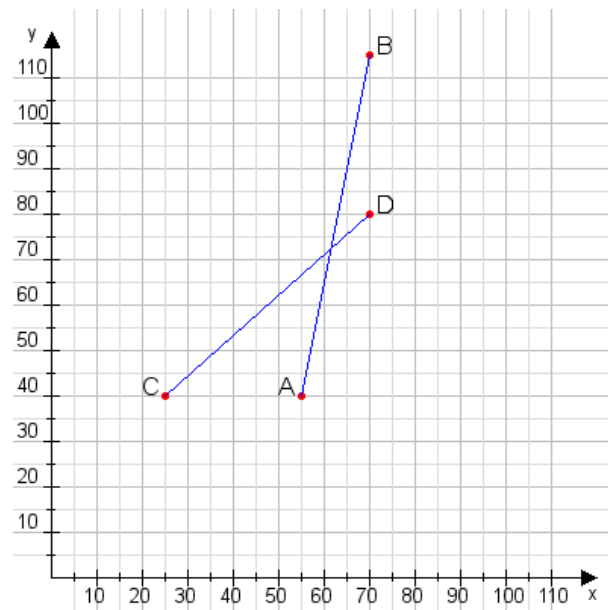
Aufgabe 2:

Zeichne den Punkt A(40|15) und den Punkt B(100|65) in das Koordinatensystem ein und verbinde beide Punkte miteinander. Verbinde die Eingetragenen Punkte C, D und ermittle deren Koordinaten.



Aufgabe 1:

C(25|40), D(70|80)



Aufgabe 2:

C(10|25), D(80|60)

