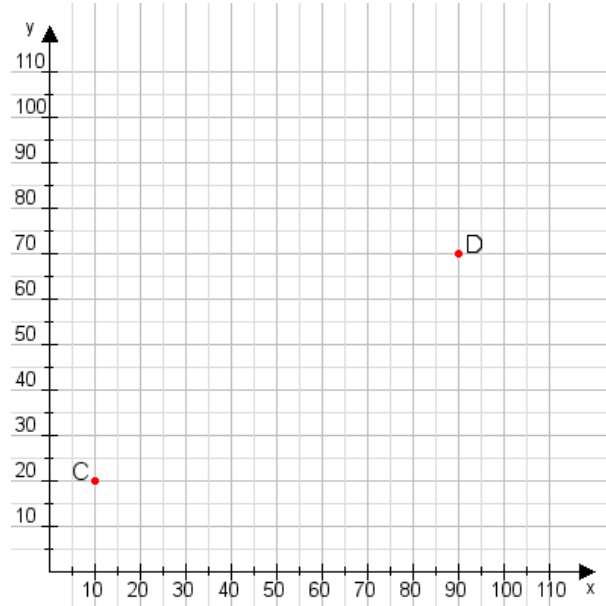


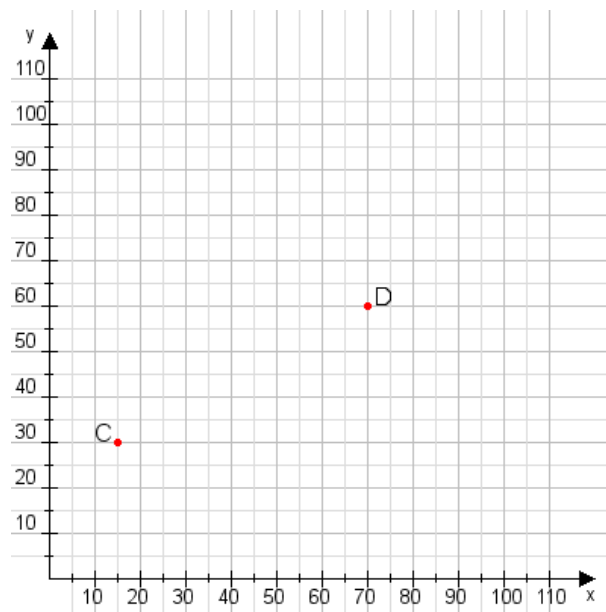
Aufgabe 1:

Zeichne den Punkt A(40|50) und den Punkt B(95|90) in das Koordinatensystem ein und verbinde beide Punkte miteinander. Verbinde die Eingetragenen Punkte C, D und ermittle deren Koordinaten.



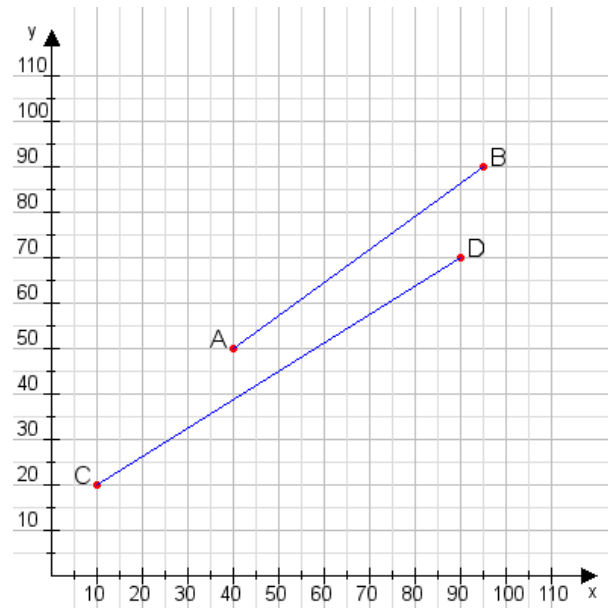
Aufgabe 2:

Zeichne den Punkt A(10|40) und den Punkt B(105|95) in das Koordinatensystem ein und verbinde beide Punkte miteinander. Verbinde die Eingetragenen Punkte C, D und ermittle deren Koordinaten.



Aufgabe 1:

C(10|20), D(90|70)



Aufgabe 2:

C(15|30), D(70|60)

