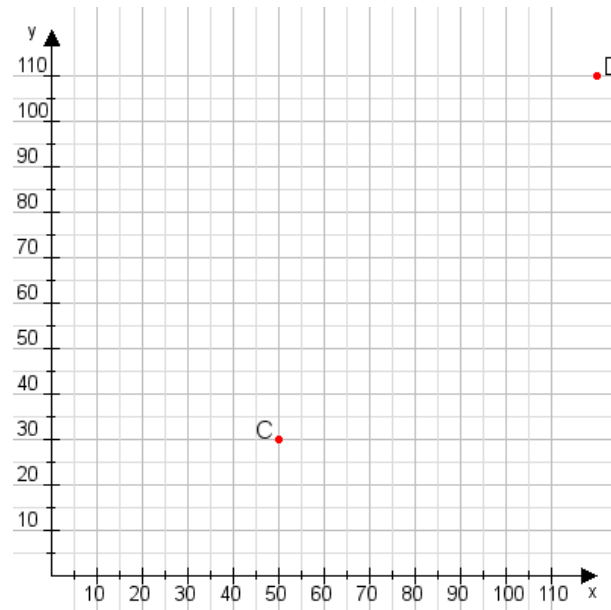


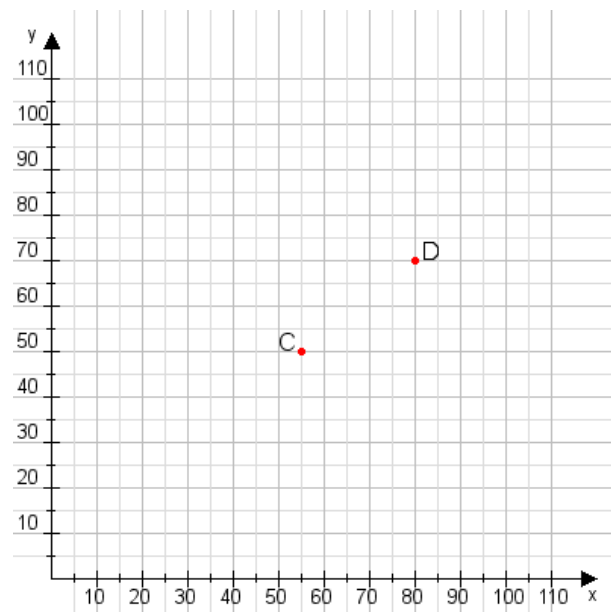
**Aufgabe 1:**

Zeichne den Punkt A(40|40) und den Punkt B(100|65) in das Koordinatensystem ein und verbinde beide Punkte miteinander. Verbinde die Eingetragenen Punkte C, D und ermittle deren Koordinaten.



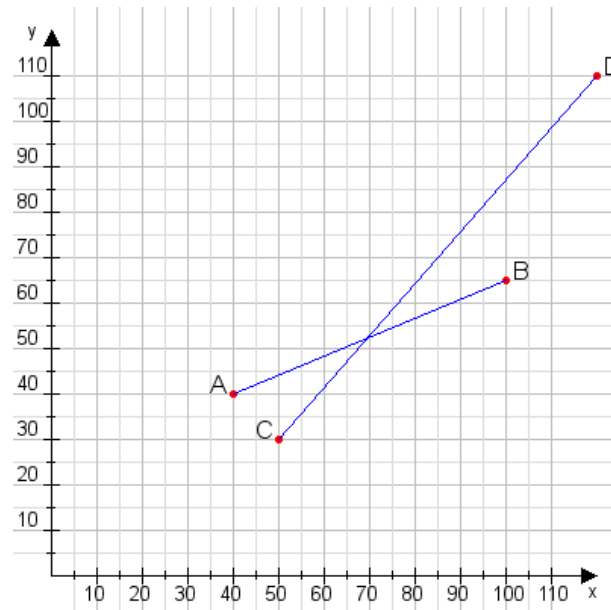
**Aufgabe 2:**

Zeichne den Punkt A(50|40) und den Punkt B(80|80) in das Koordinatensystem ein und verbinde beide Punkte miteinander. Verbinde die Eingetragenen Punkte C, D und ermittle deren Koordinaten.



**Aufgabe 1:**

**C(50|30), D(120|110)**



**Aufgabe 2:**

**C(55|50), D(80|70)**

