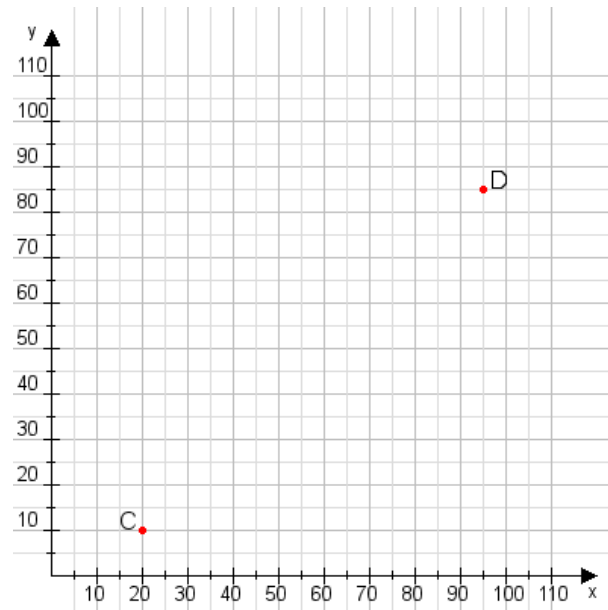


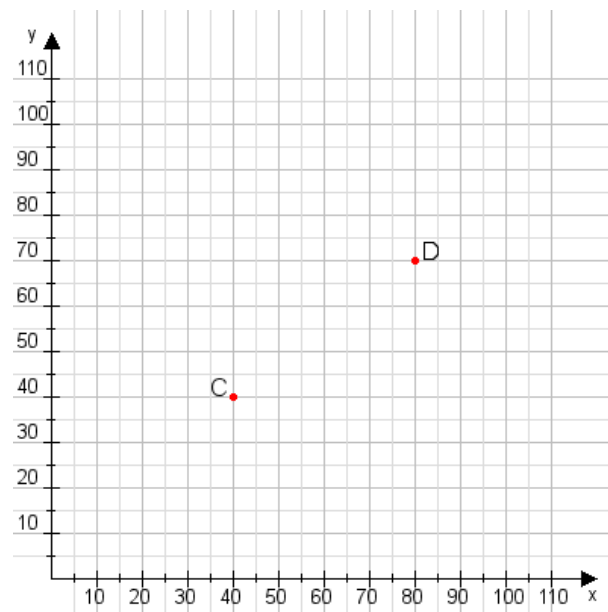
**Aufgabe 1:**

Zeichne den Punkt A(20|50) und den Punkt B(105|110) in das Koordinatensystem ein und verbinde beide Punkte miteinander. Verbinde die Eingetragenen Punkte C, D und ermittle deren Koordinaten.



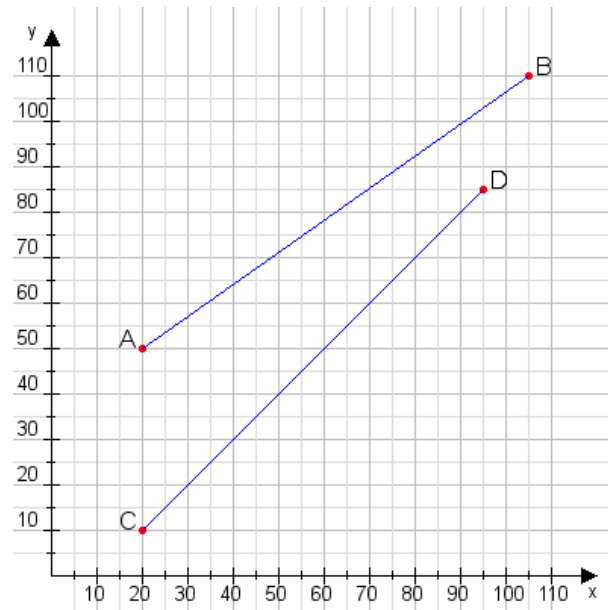
**Aufgabe 2:**

Zeichne den Punkt A(20|20) und den Punkt B(85|90) in das Koordinatensystem ein und verbinde beide Punkte miteinander. Verbinde die Eingetragenen Punkte C, D und ermittle deren Koordinaten.



**Aufgabe 1:**

C(20|10), D(95|85)



**Aufgabe 2:**

C(40|40), D(80|70)

