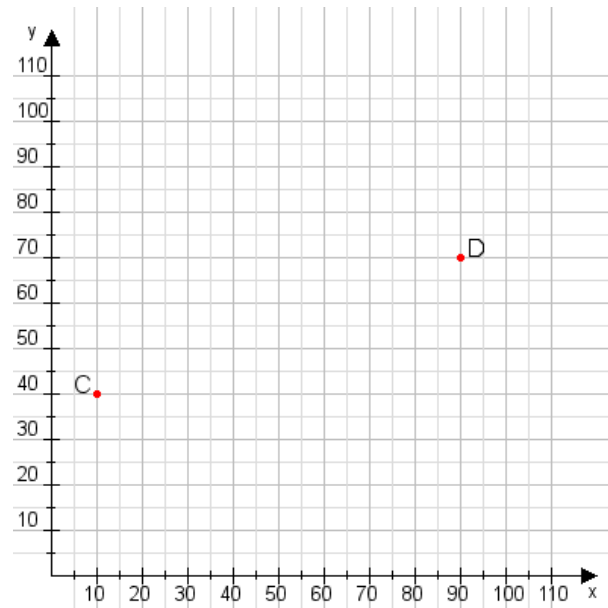


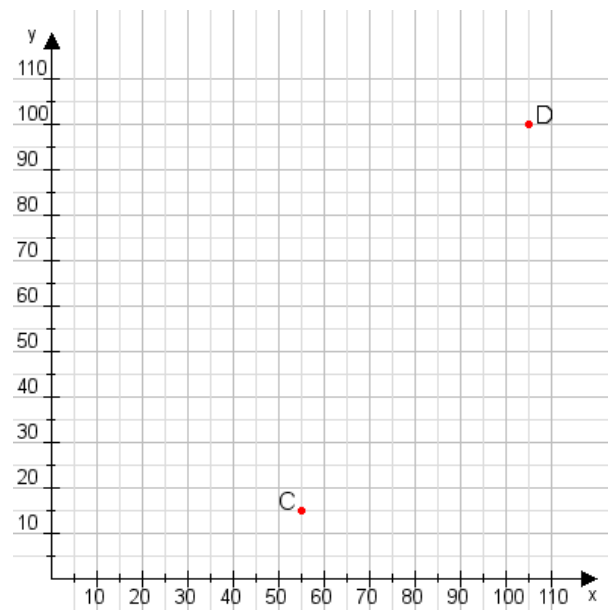
Aufgabe 1:

Zeichne den Punkt A(45|30) und den Punkt B(85|95) in das Koordinatensystem ein und verbinde beide Punkte miteinander. Verbinde die Eingetragenen Punkte C, D und ermittle deren Koordinaten.



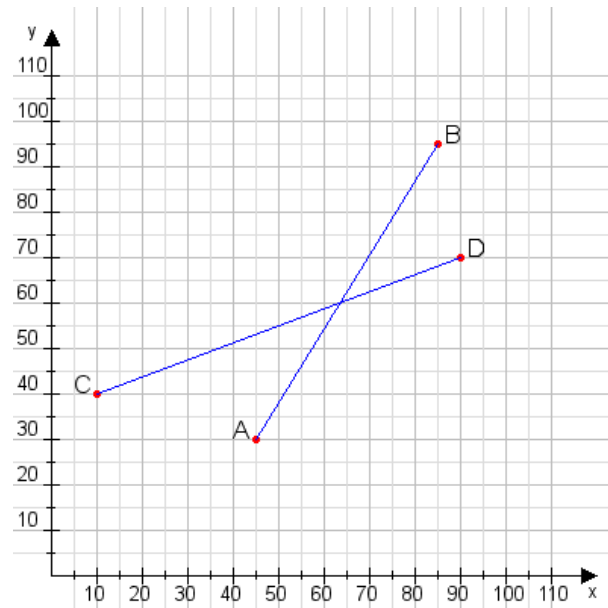
Aufgabe 2:

Zeichne den Punkt A(30|40) und den Punkt B(110|110) in das Koordinatensystem ein und verbinde beide Punkte miteinander. Verbinde die Eingetragenen Punkte C, D und ermittle deren Koordinaten.



Aufgabe 1:

C(10|40), D(90|70)



Aufgabe 2:

C(55|15), D(105|100)

