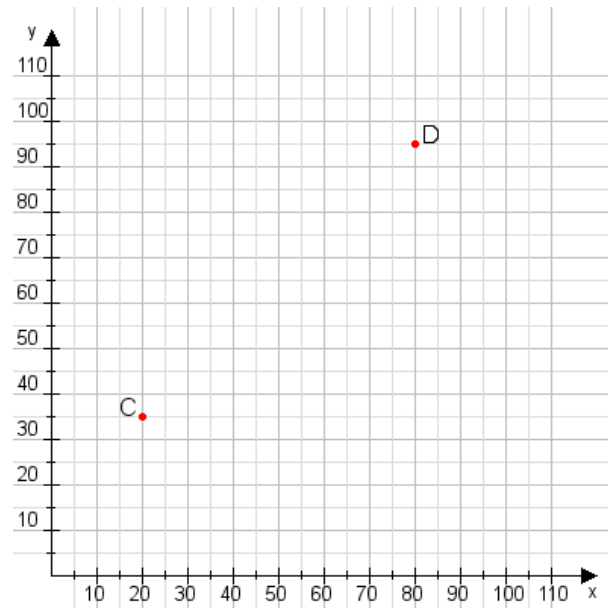


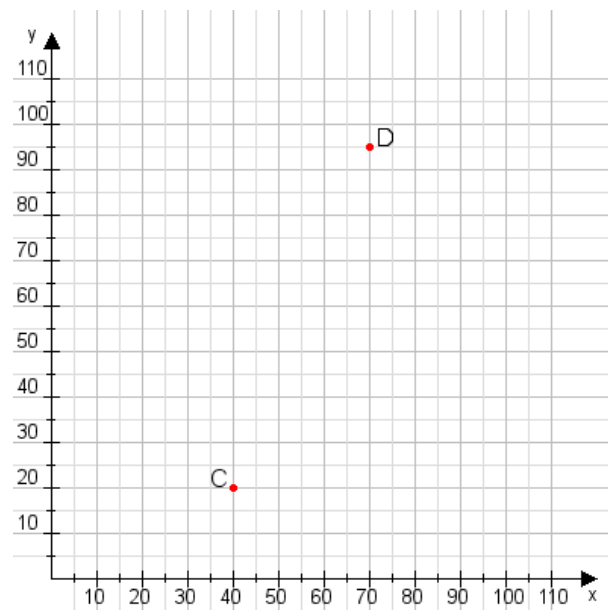
Aufgabe 1:

Zeichne den Punkt A(20|20) und den Punkt B(85|90) in das Koordinatensystem ein und verbinde beide Punkte miteinander. Verbinde die Eingetragenen Punkte C, D und ermittle deren Koordinaten.



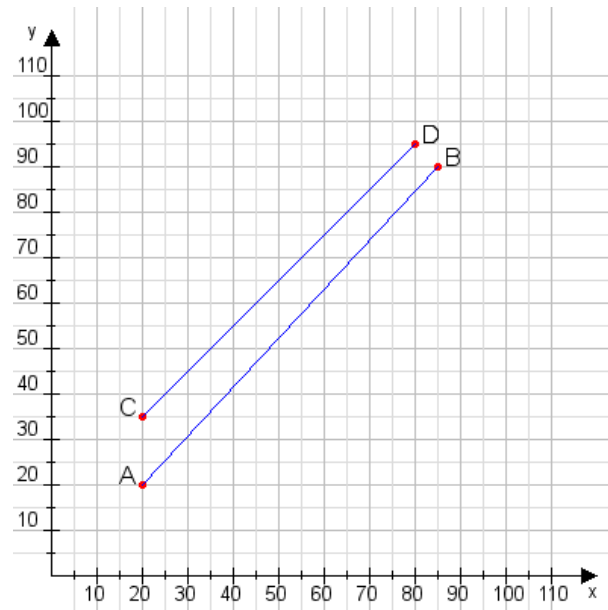
Aufgabe 2:

Zeichne den Punkt A(25|55) und den Punkt B(100|70) in das Koordinatensystem ein und verbinde beide Punkte miteinander. Verbinde die Eingetragenen Punkte C, D und ermittle deren Koordinaten.



Aufgabe 1:

C(20|35), D(80|95)



Aufgabe 2:

C(40|20), D(70|95)

