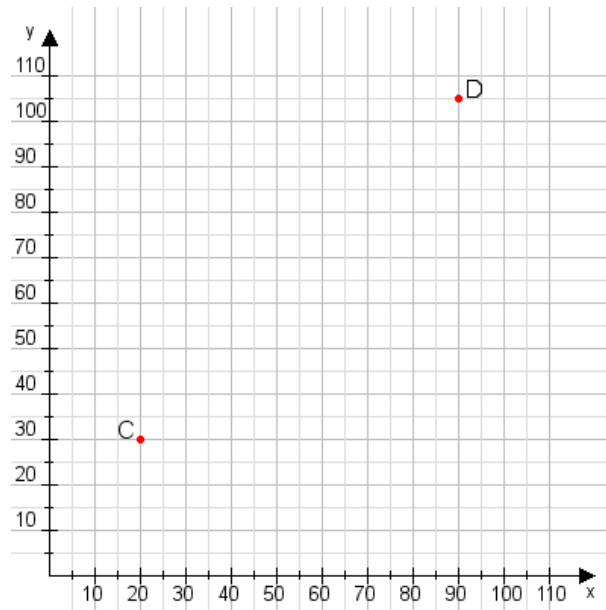


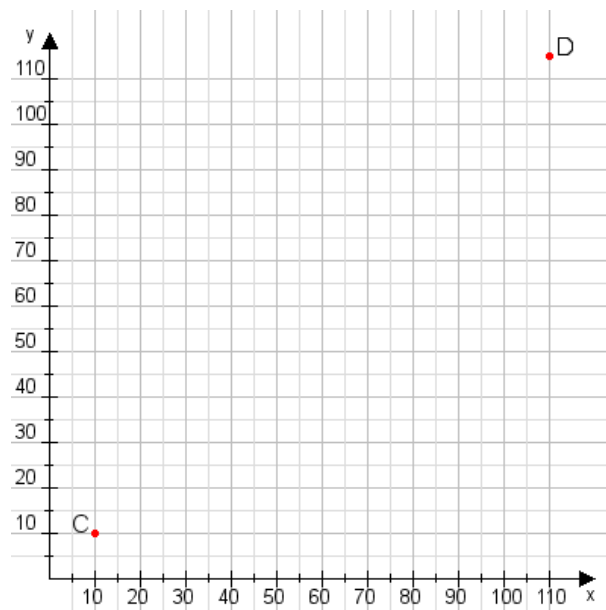
Aufgabe 1:

Zeichne den Punkt A(55|50) und den Punkt B(70|105) in das Koordinatensystem ein und verbinde beide Punkte miteinander. Verbinde die Eingetragenen Punkte C, D und ermittle deren Koordinaten.



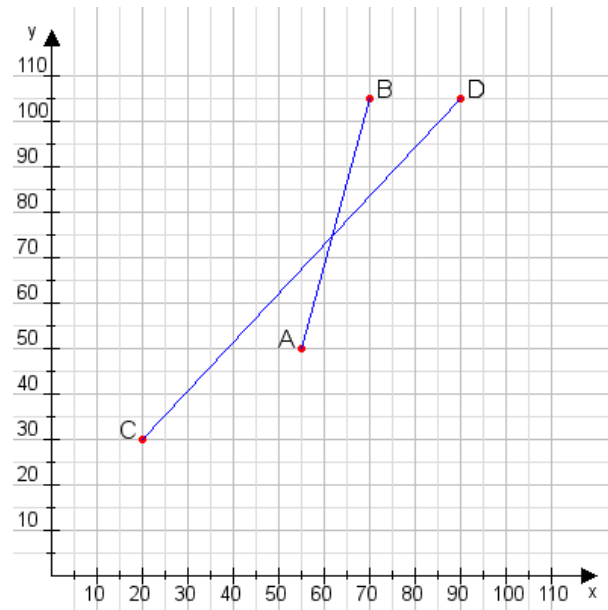
Aufgabe 2:

Zeichne den Punkt A(30|50) und den Punkt B(70|90) in das Koordinatensystem ein und verbinde beide Punkte miteinander. Verbinde die Eingetragenen Punkte C, D und ermittle deren Koordinaten.



Aufgabe 1:

C(20|30), D(90|105)



Aufgabe 2:

C(10|10), D(110|115)

