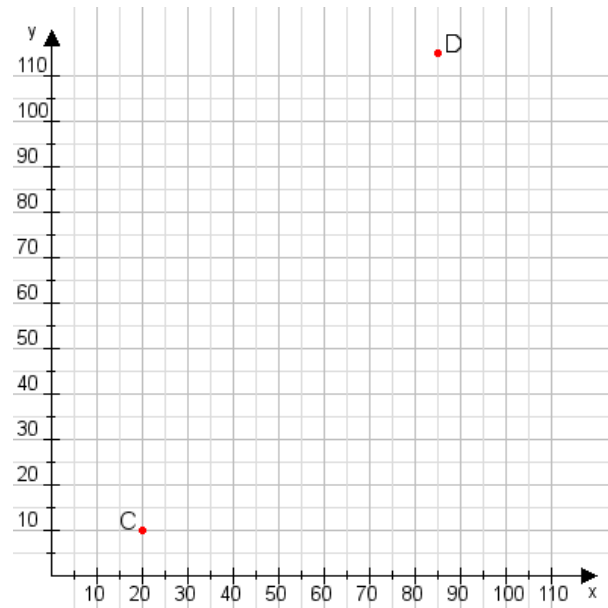


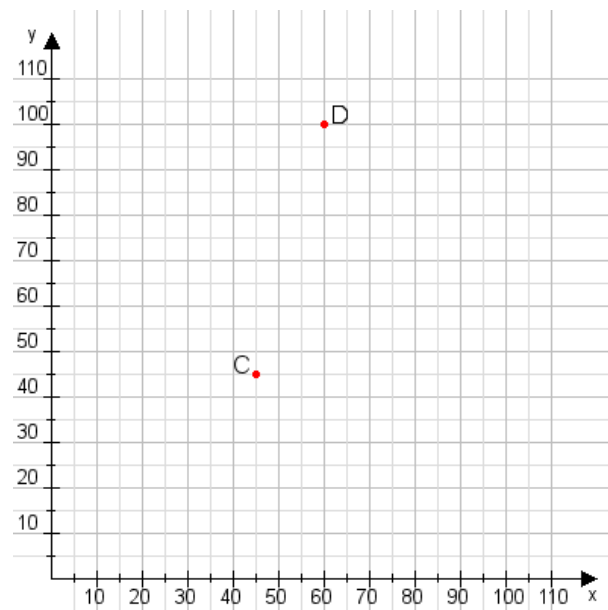
Aufgabe 1:

Zeichne den Punkt A(50|25) und den Punkt B(100|70) in das Koordinatensystem ein und verbinde beide Punkte miteinander. Verbinde die Eingetragenen Punkte C, D und ermittle deren Koordinaten.



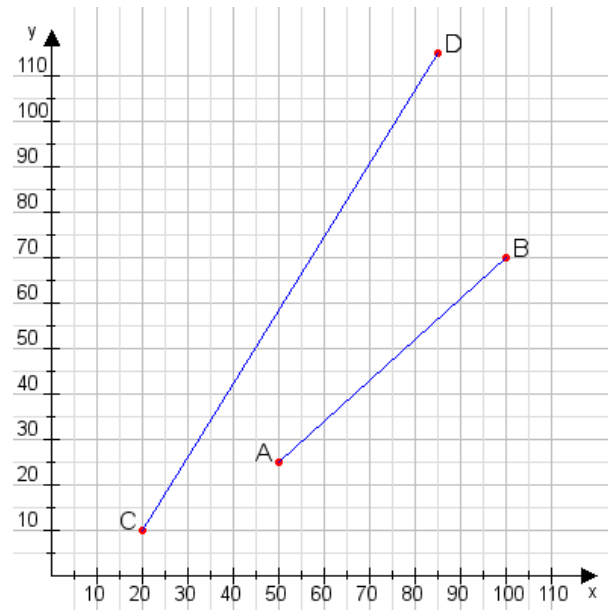
Aufgabe 2:

Zeichne den Punkt A(30|25) und den Punkt B(60|80) in das Koordinatensystem ein und verbinde beide Punkte miteinander. Verbinde die Eingetragenen Punkte C, D und ermittle deren Koordinaten.



Aufgabe 1:

C(20|10), D(85|115)



Aufgabe 2:

C(45|45), D(60|100)

