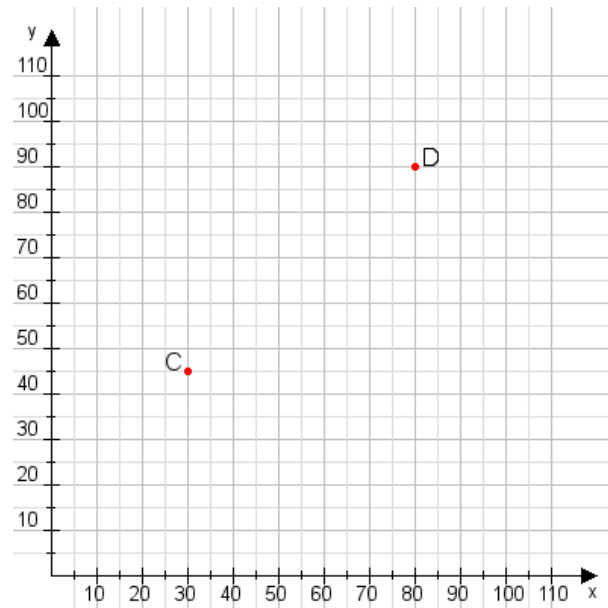


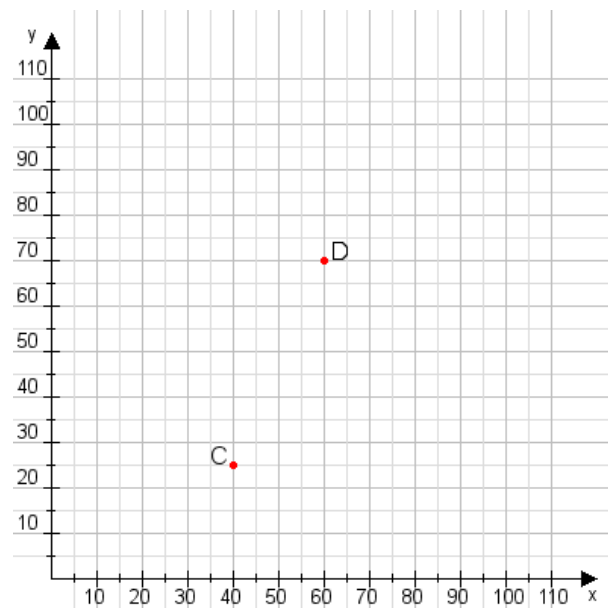
Aufgabe 1:

Zeichne den Punkt A(40|30) und den Punkt B(90|70) in das Koordinatensystem ein und verbinde beide Punkte miteinander. Verbinde die Eingetragenen Punkte C, D und ermittle deren Koordinaten.



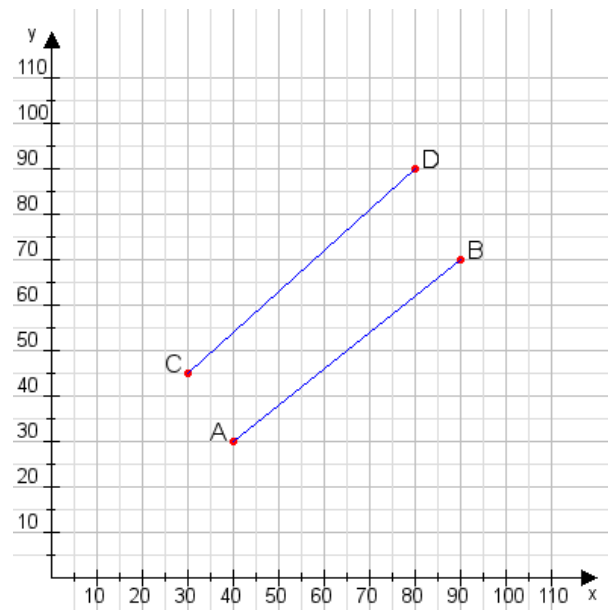
Aufgabe 2:

Zeichne den Punkt A(20|40) und den Punkt B(115|95) in das Koordinatensystem ein und verbinde beide Punkte miteinander. Verbinde die Eingetragenen Punkte C, D und ermittle deren Koordinaten.



Aufgabe 1:

C(30|45), D(80|90)



Aufgabe 2:

C(40|25), D(60|70)

