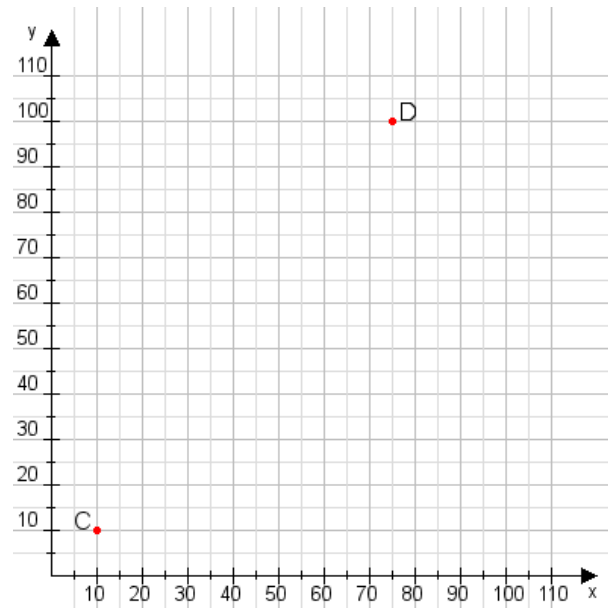


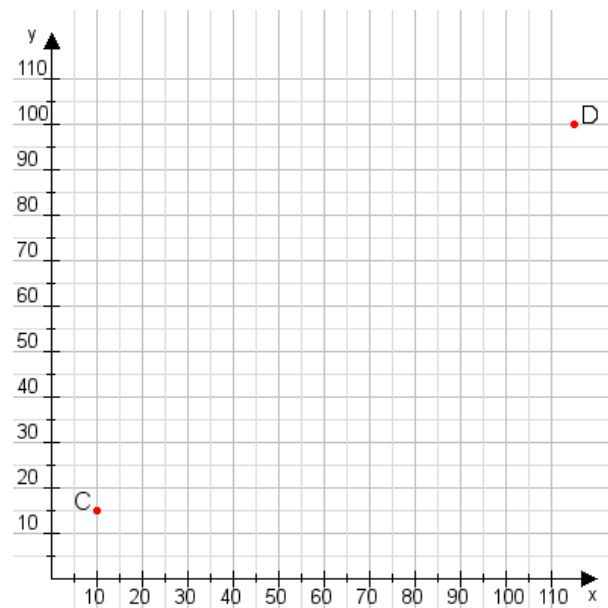
Aufgabe 1:

Zeichne den Punkt A(45|40) und den Punkt B(100|75) in das Koordinatensystem ein und verbinde beide Punkte miteinander. Verbinde die Eingetragenen Punkte C, D und ermittle deren Koordinaten.



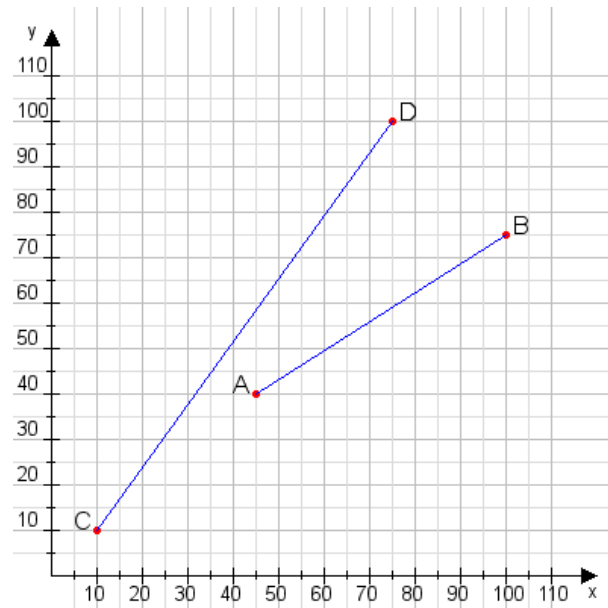
Aufgabe 2:

Zeichne den Punkt A(20|25) und den Punkt B(100|110) in das Koordinatensystem ein und verbinde beide Punkte miteinander. Verbinde die Eingetragenen Punkte C, D und ermittle deren Koordinaten.



Aufgabe 1:

C(10|10), D(75|100)



Aufgabe 2:

C(10|15), D(115|100)

