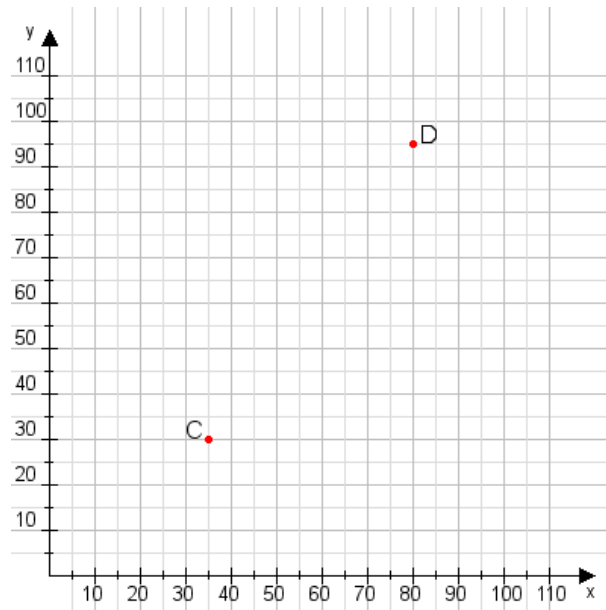


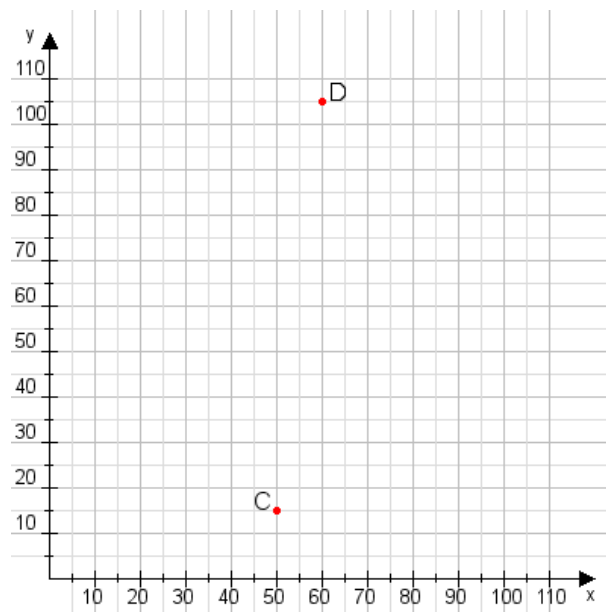
Aufgabe 1:

Zeichne den Punkt A(30|30) und den Punkt B(90|65) in das Koordinatensystem ein und verbinde beide Punkte miteinander. Verbinde die Eingetragenen Punkte C, D und ermittle deren Koordinaten.



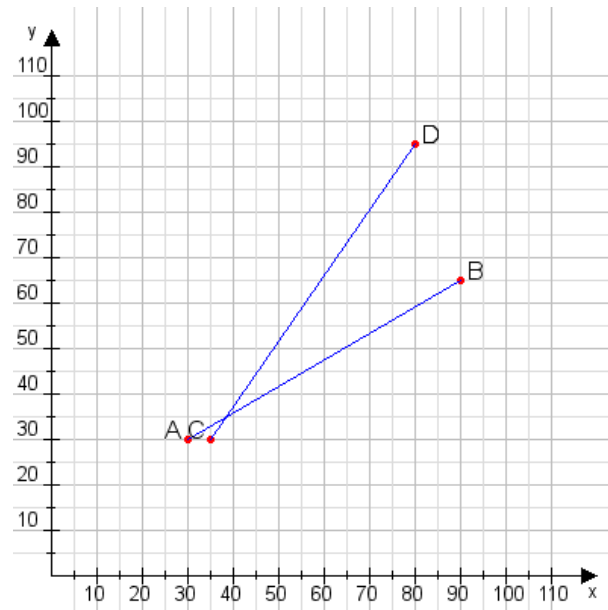
Aufgabe 2:

Zeichne den Punkt A(20|45) und den Punkt B(70|70) in das Koordinatensystem ein und verbinde beide Punkte miteinander. Verbinde die Eingetragenen Punkte C, D und ermittle deren Koordinaten.



Aufgabe 1:

C(35|30), D(80|95)



Aufgabe 2:

C(50|15), D(60|105)

