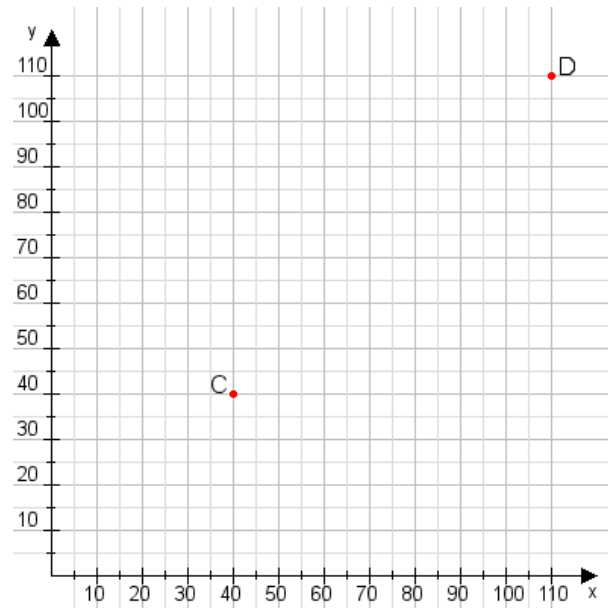


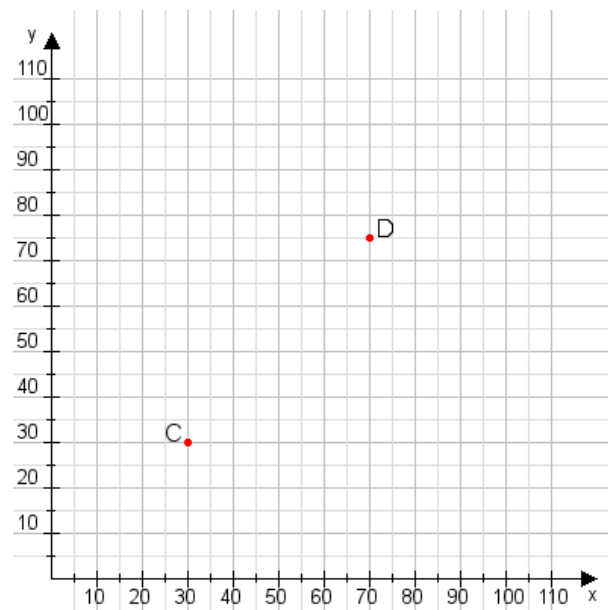
Aufgabe 1:

Zeichne den Punkt A(25|20) und den Punkt B(80|100) in das Koordinatensystem ein und verbinde beide Punkte miteinander. Verbinde die Eingetragenen Punkte C, D und ermittle deren Koordinaten.



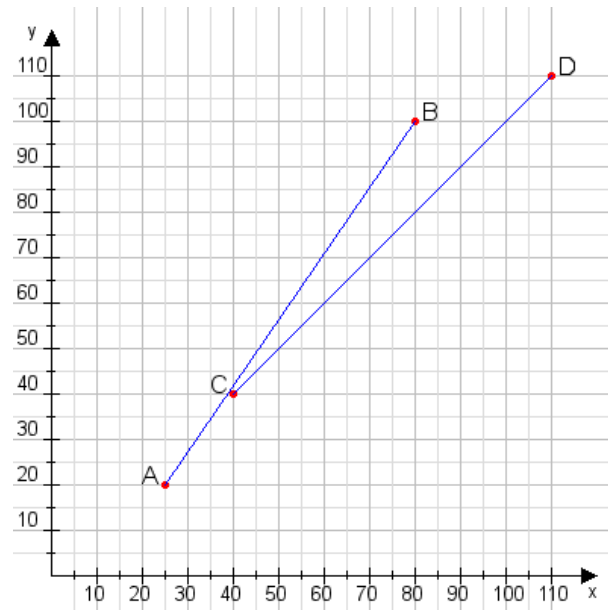
Aufgabe 2:

Zeichne den Punkt A(30|10) und den Punkt B(85|65) in das Koordinatensystem ein und verbinde beide Punkte miteinander. Verbinde die Eingetragenen Punkte C, D und ermittle deren Koordinaten.



Aufgabe 1:

C(40|40), D(110|110)



Aufgabe 2:

C(30|30), D(70|75)

