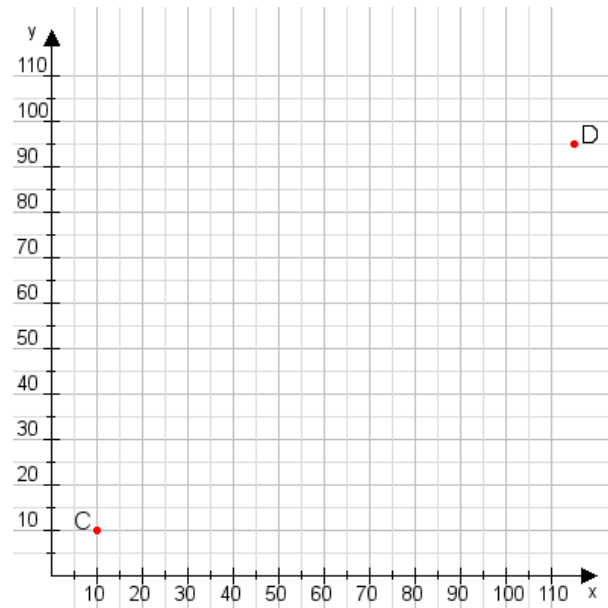


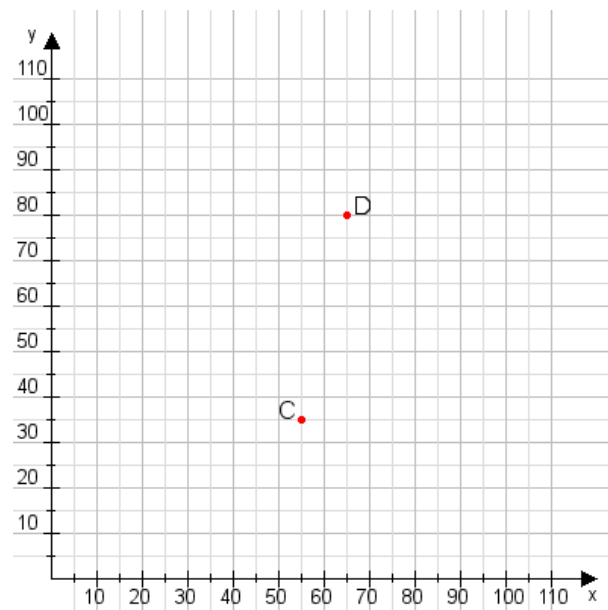
Aufgabe 1:

Zeichne den Punkt A(35|10) und den Punkt B(60|60) in das Koordinatensystem ein und verbinde beide Punkte miteinander. Verbinde die Eingetragenen Punkte C, D und ermittle deren Koordinaten.



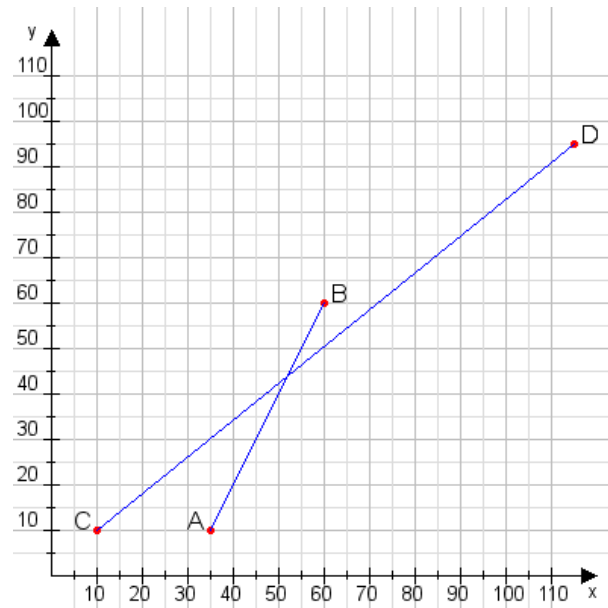
Aufgabe 2:

Zeichne den Punkt A(30|50) und den Punkt B(90|80) in das Koordinatensystem ein und verbinde beide Punkte miteinander. Verbinde die Eingetragenen Punkte C, D und ermittle deren Koordinaten.



Aufgabe 1:

C(10|10), D(115|95)



Aufgabe 2:

C(55|35), D(65|80)

