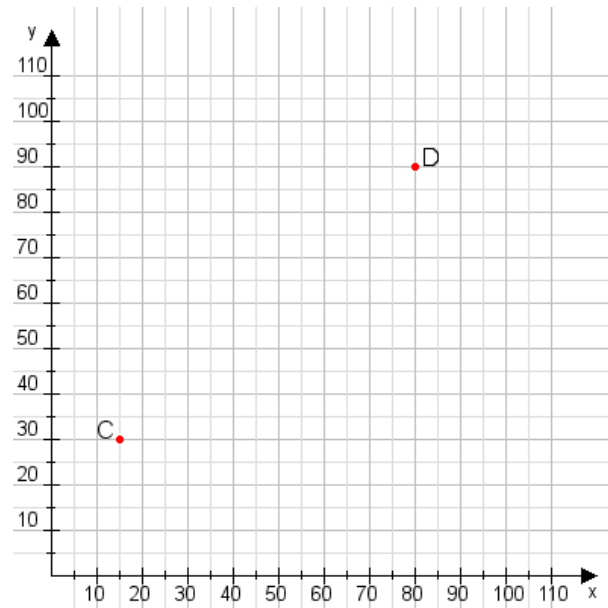


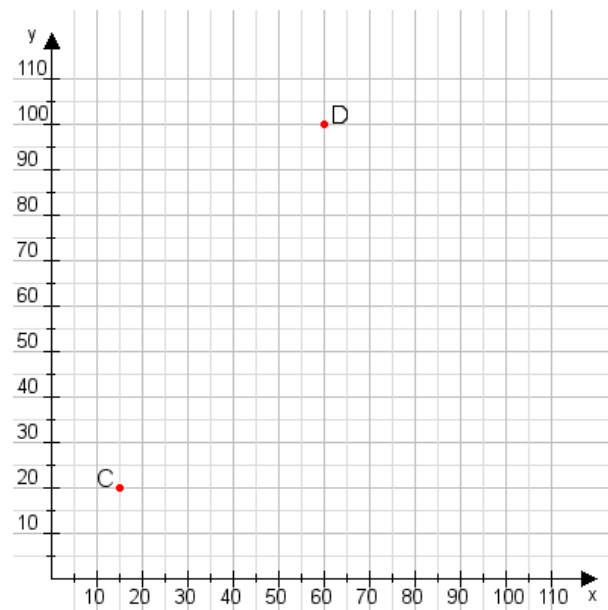
**Aufgabe 1:**

Zeichne den Punkt A(45|40) und den Punkt B(105|100) in das Koordinatensystem ein und verbinde beide Punkte miteinander. Verbinde die Eingetragenen Punkte C, D und ermittle deren Koordinaten.



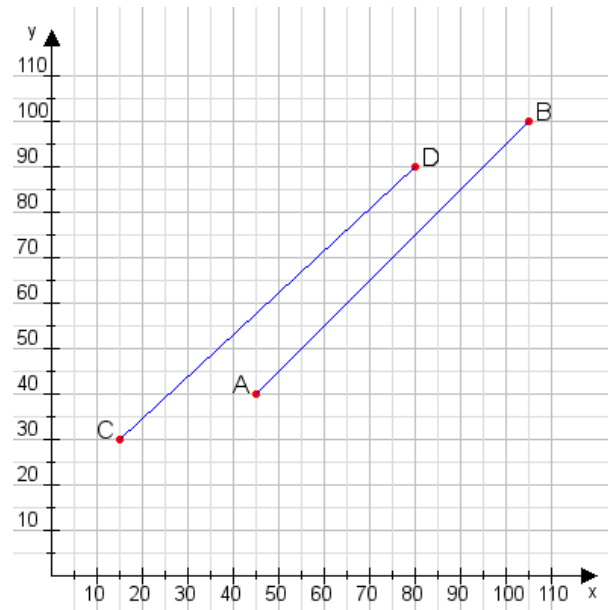
**Aufgabe 2:**

Zeichne den Punkt A(20|20) und den Punkt B(70|100) in das Koordinatensystem ein und verbinde beide Punkte miteinander. Verbinde die Eingetragenen Punkte C, D und ermittle deren Koordinaten.



**Aufgabe 1:**

C(15|30), D(80|90)



**Aufgabe 2:**

C(15|20), D(60|100)

