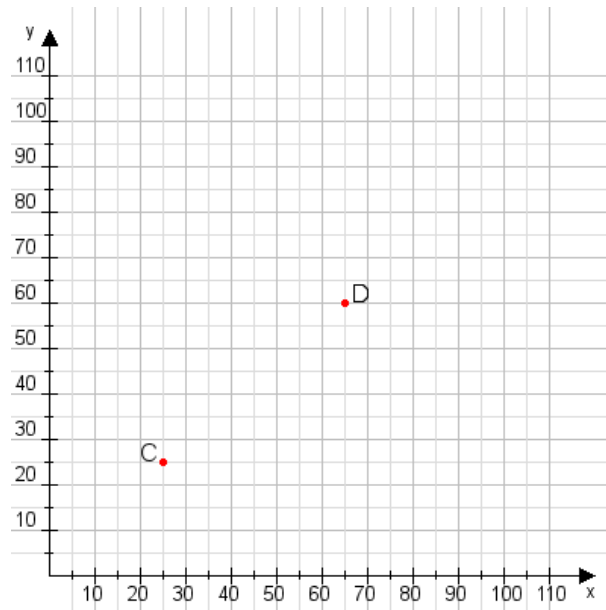


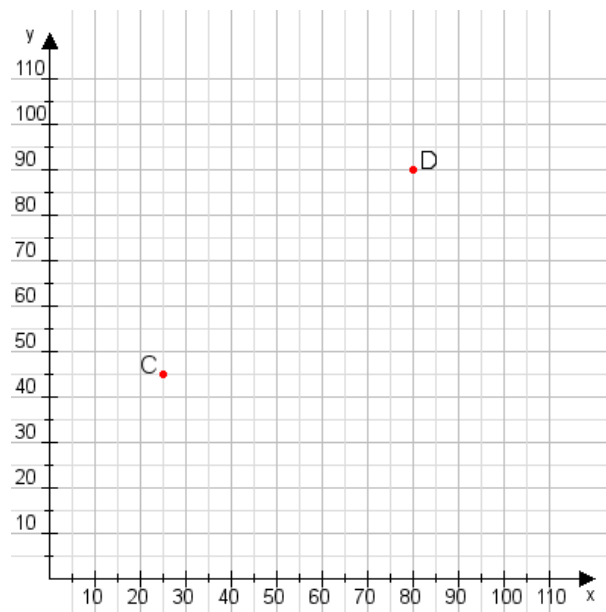
Aufgabe 1:

Zeichne den Punkt A(20|20) und den Punkt B(80|60) in das Koordinatensystem ein und verbinde beide Punkte miteinander. Verbinde die Eingetragenen Punkte C, D und ermittle deren Koordinaten.



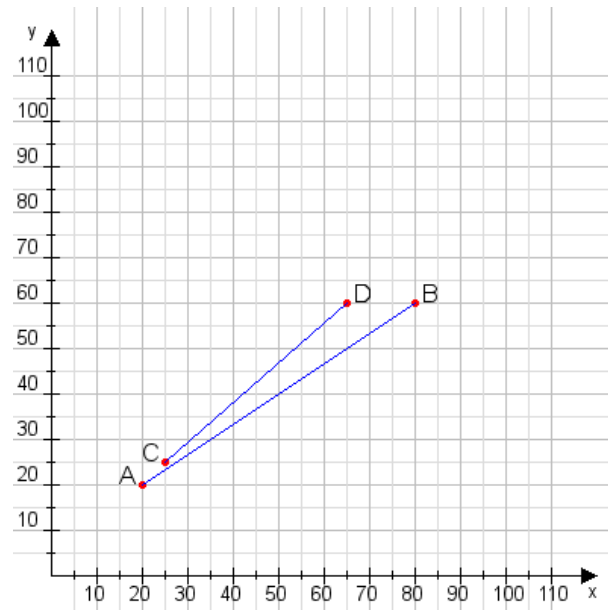
Aufgabe 2:

Zeichne den Punkt A(10|50) und den Punkt B(90|65) in das Koordinatensystem ein und verbinde beide Punkte miteinander. Verbinde die Eingetragenen Punkte C, D und ermittle deren Koordinaten.



Aufgabe 1:

C(25|25), D(65|60)



Aufgabe 2:

C(25|45), D(80|90)

