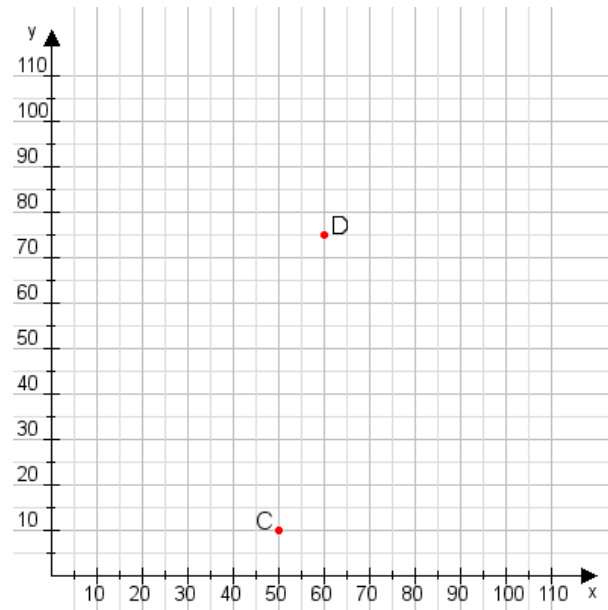


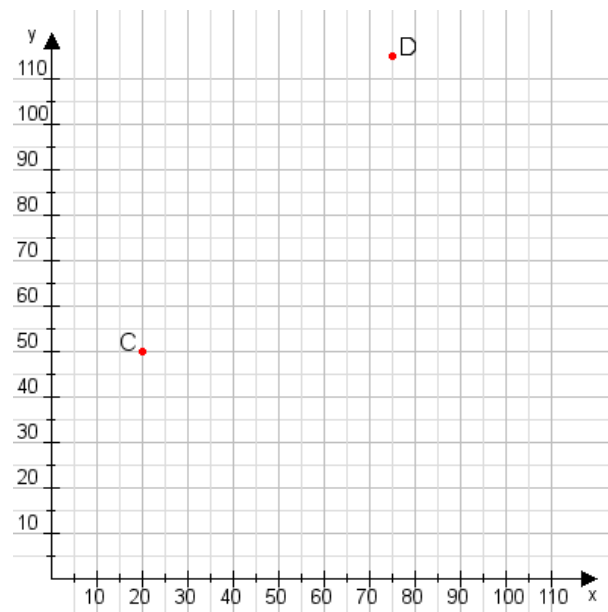
Aufgabe 1:

Zeichne den Punkt A(30|55) und den Punkt B(100|115) in das Koordinatensystem ein und verbinde beide Punkte miteinander. Verbinde die Eingetragenen Punkte C, D und ermittle deren Koordinaten.



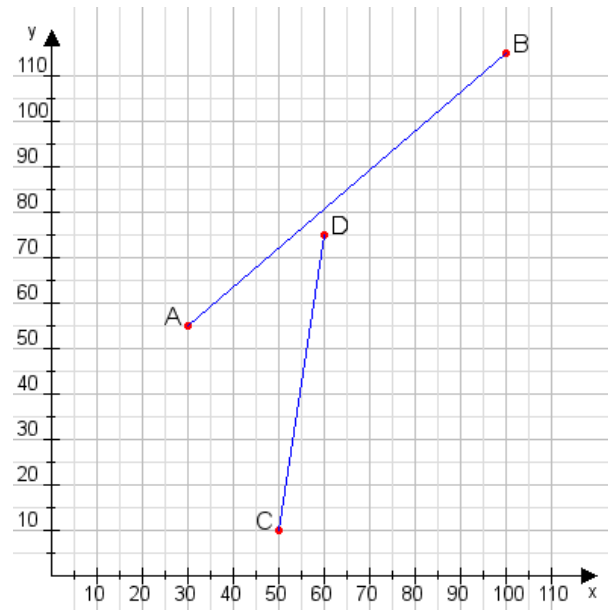
Aufgabe 2:

Zeichne den Punkt A(10|15) und den Punkt B(90|60) in das Koordinatensystem ein und verbinde beide Punkte miteinander. Verbinde die Eingetragenen Punkte C, D und ermittle deren Koordinaten.



Aufgabe 1:

C(50|10), D(60|75)



Aufgabe 2:

C(20|50), D(75|115)

