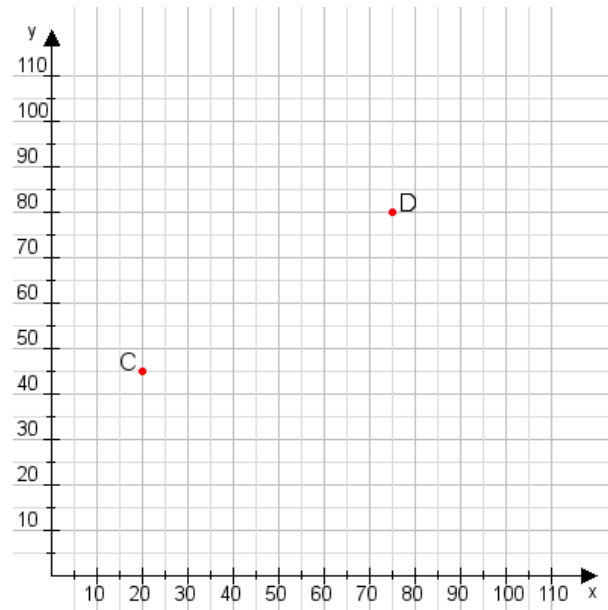


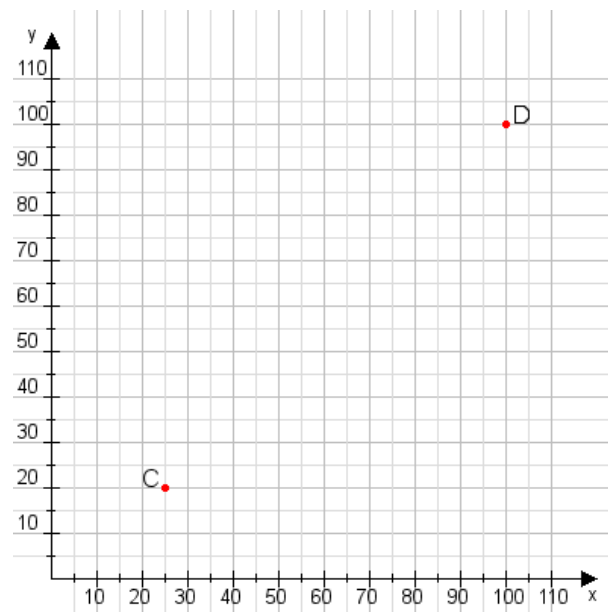
**Aufgabe 1:**

Zeichne den Punkt A(20|25) und den Punkt B(70|80) in das Koordinatensystem ein und verbinde beide Punkte miteinander. Verbinde die Eingetragenen Punkte C, D und ermittle deren Koordinaten.



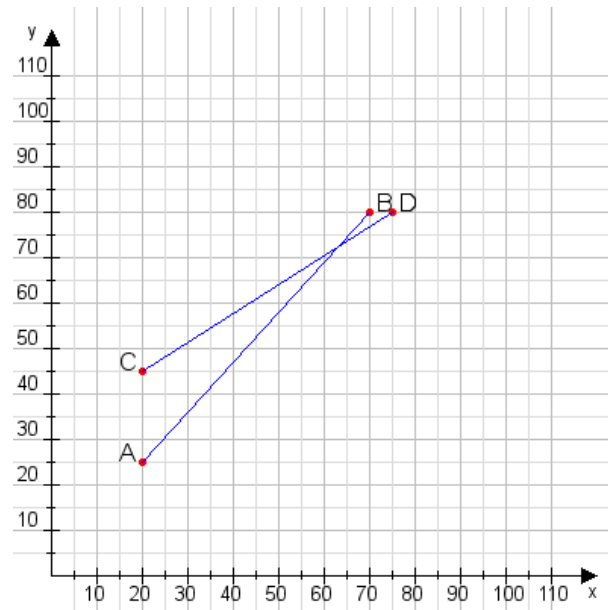
**Aufgabe 2:**

Zeichne den Punkt A(15|50) und den Punkt B(70|85) in das Koordinatensystem ein und verbinde beide Punkte miteinander. Verbinde die Eingetragenen Punkte C, D und ermittle deren Koordinaten.



**Aufgabe 1:**

C(20|45), D(75|80)



**Aufgabe 2:**

C(25|20), D(100|100)

