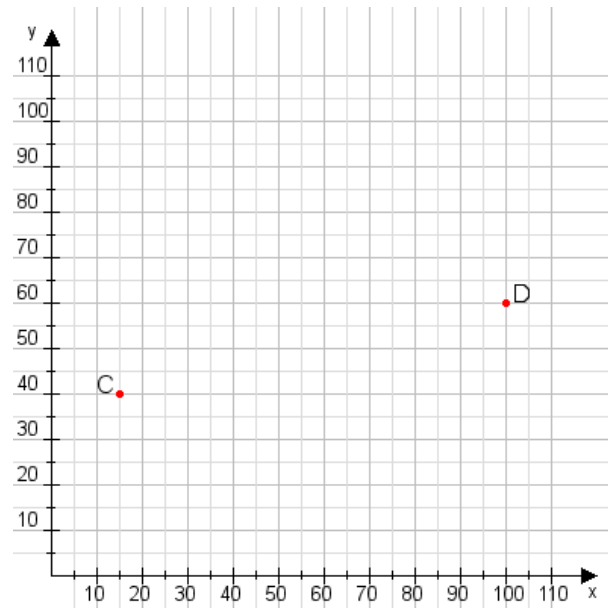


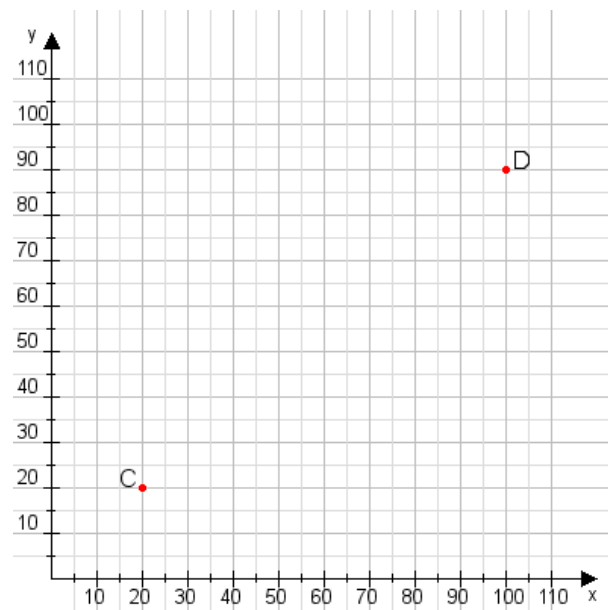
**Aufgabe 1:**

Zeichne den Punkt A(40|10) und den Punkt B(80|110) in das Koordinatensystem ein und verbinde beide Punkte miteinander. Verbinde die Eingetragenen Punkte C, D und ermittle deren Koordinaten.



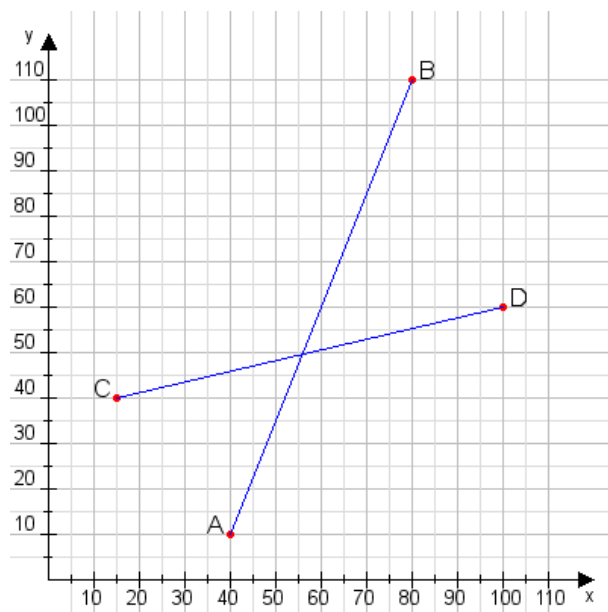
**Aufgabe 2:**

Zeichne den Punkt A(20|50) und den Punkt B(110|105) in das Koordinatensystem ein und verbinde beide Punkte miteinander. Verbinde die Eingetragenen Punkte C, D und ermittle deren Koordinaten.



**Aufgabe 1:**

C(15|40), D(100|60)



**Aufgabe 2:**

C(20|20), D(100|90)

