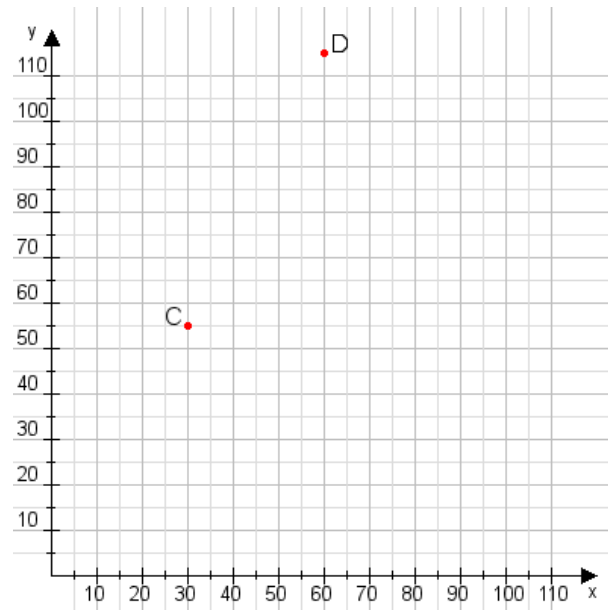


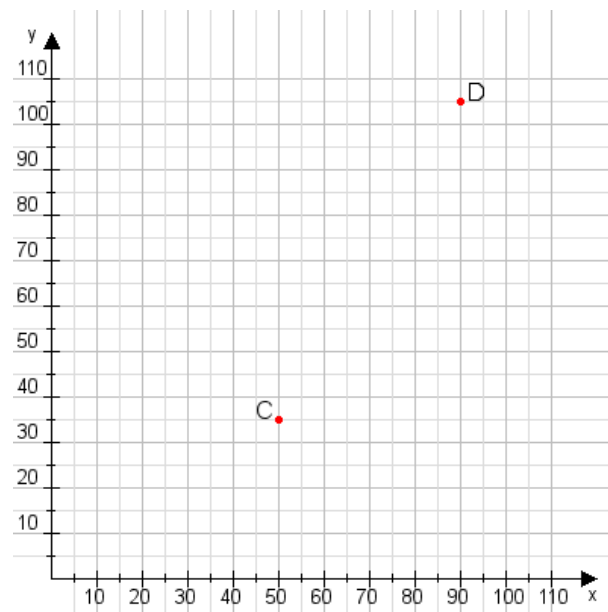
**Aufgabe 1:**

Zeichne den Punkt A(40|35) und den Punkt B(60|90) in das Koordinatensystem ein und verbinde beide Punkte miteinander. Verbinde die Eingetragenen Punkte C, D und ermittle deren Koordinaten.



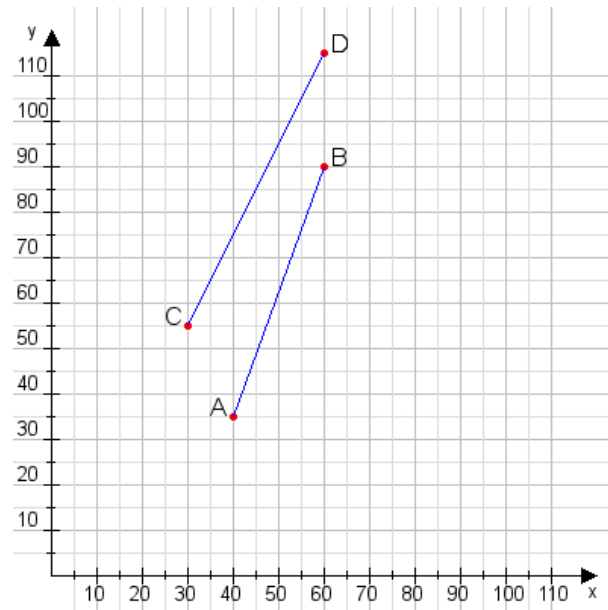
**Aufgabe 2:**

Zeichne den Punkt A(40|10) und den Punkt B(100|95) in das Koordinatensystem ein und verbinde beide Punkte miteinander. Verbinde die Eingetragenen Punkte C, D und ermittle deren Koordinaten.



**Aufgabe 1:**

C(30|55), D(60|115)



**Aufgabe 2:**

C(50|35), D(90|105)

