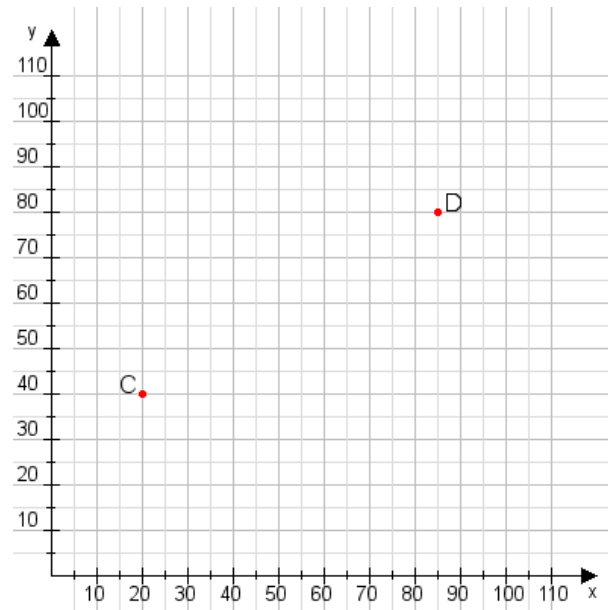


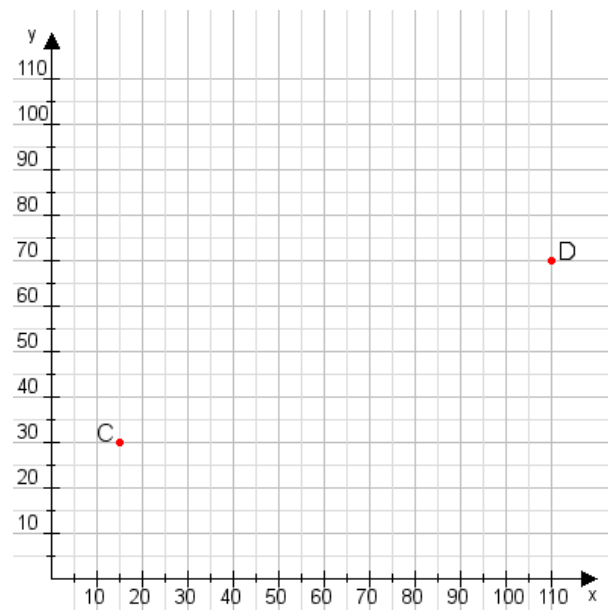
Aufgabe 1:

Zeichne den Punkt A(20|40) und den Punkt B(110|80) in das Koordinatensystem ein und verbinde beide Punkte miteinander. Verbinde die Eingetragenen Punkte C, D und ermittle deren Koordinaten.



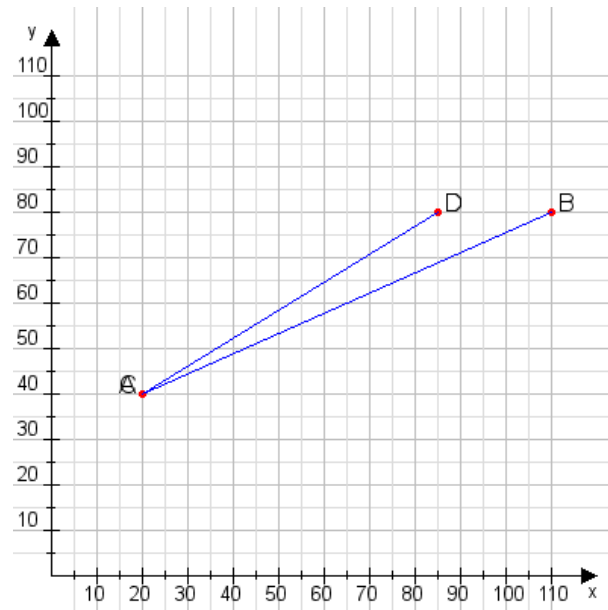
Aufgabe 2:

Zeichne den Punkt A(20|40) und den Punkt B(90|120) in das Koordinatensystem ein und verbinde beide Punkte miteinander. Verbinde die Eingetragenen Punkte C, D und ermittle deren Koordinaten.



Aufgabe 1:

C(20|40), D(85|80)



Aufgabe 2:

C(15|30), D(110|70)

