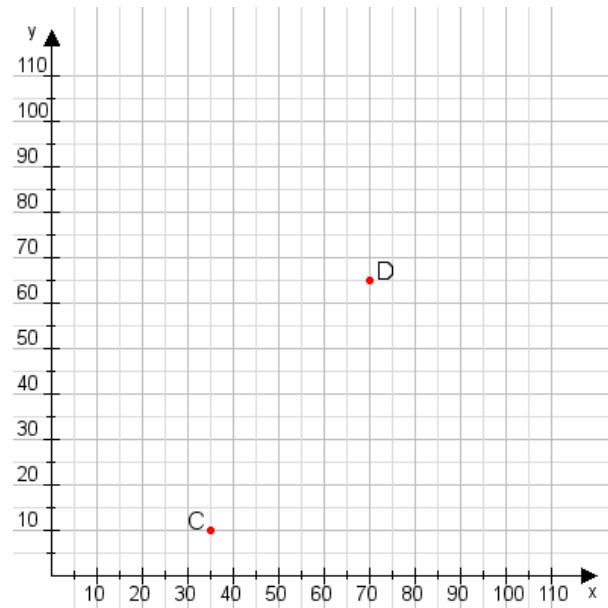


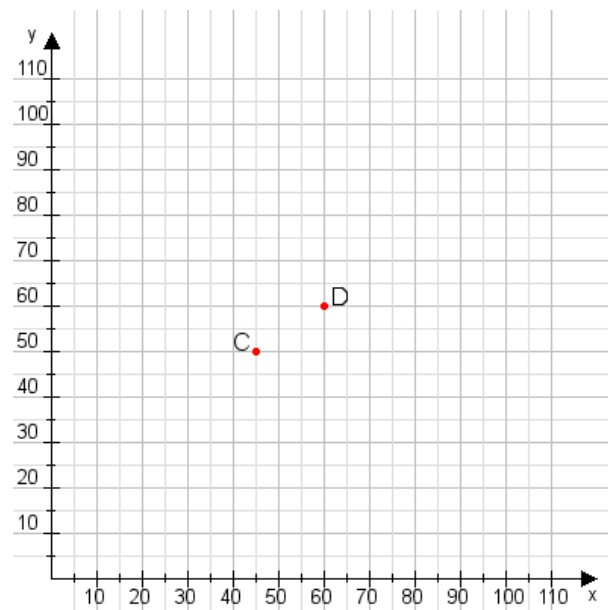
Aufgabe 1:

Zeichne den Punkt A(25|20) und den Punkt B(100|70) in das Koordinatensystem ein und verbinde beide Punkte miteinander. Verbinde die Eingetragenen Punkte C, D und ermittle deren Koordinaten.



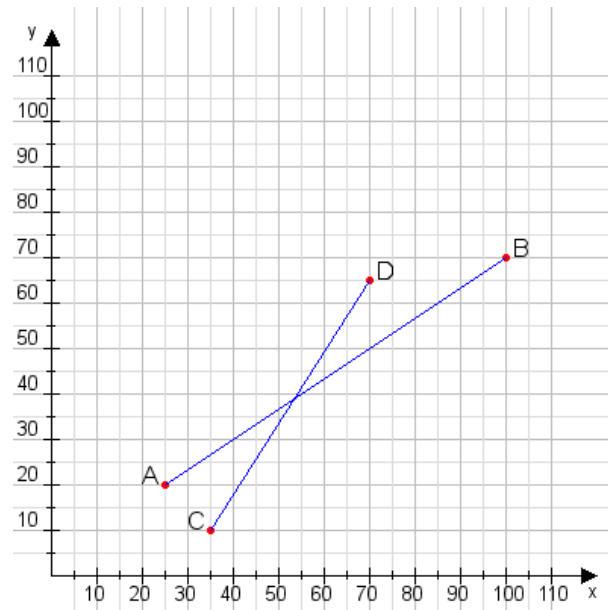
Aufgabe 2:

Zeichne den Punkt A(45|50) und den Punkt B(90|115) in das Koordinatensystem ein und verbinde beide Punkte miteinander. Verbinde die Eingetragenen Punkte C, D und ermittle deren Koordinaten.



Aufgabe 1:

C(35|10), D(70|65)



Aufgabe 2:

C(45|50), D(60|60)

