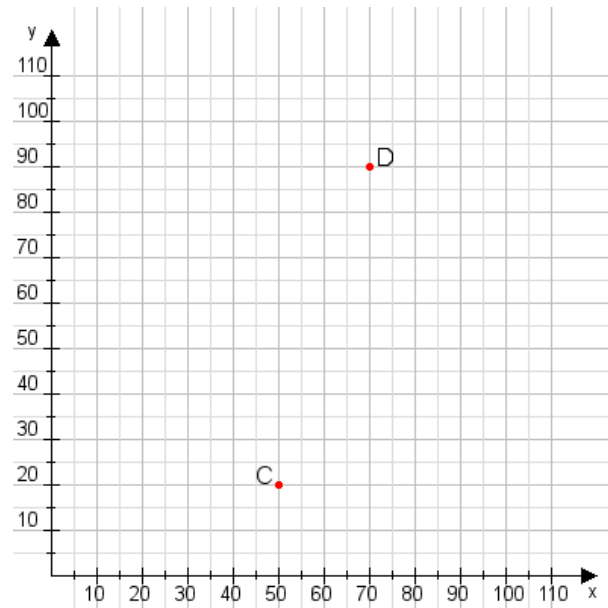


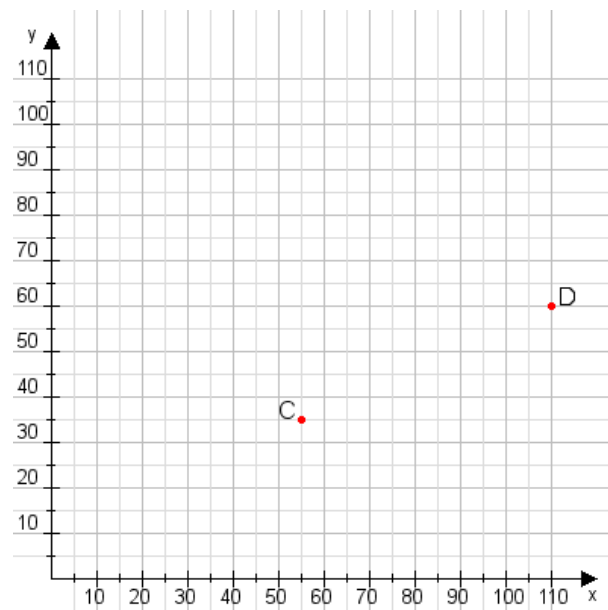
**Aufgabe 1:**

Zeichne den Punkt A(15|50) und den Punkt B(70|90) in das Koordinatensystem ein und verbinde beide Punkte miteinander. Verbinde die Eingetragenen Punkte C, D und ermittle deren Koordinaten.



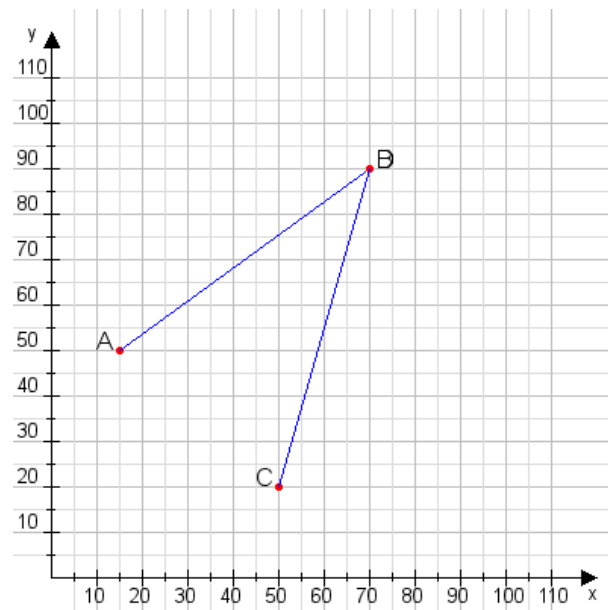
**Aufgabe 2:**

Zeichne den Punkt A(40|15) und den Punkt B(90|60) in das Koordinatensystem ein und verbinde beide Punkte miteinander. Verbinde die Eingetragenen Punkte C, D und ermittle deren Koordinaten.



**Aufgabe 1:**

C(50|20), D(70|90)



**Aufgabe 2:**

C(55|35), D(110|60)

