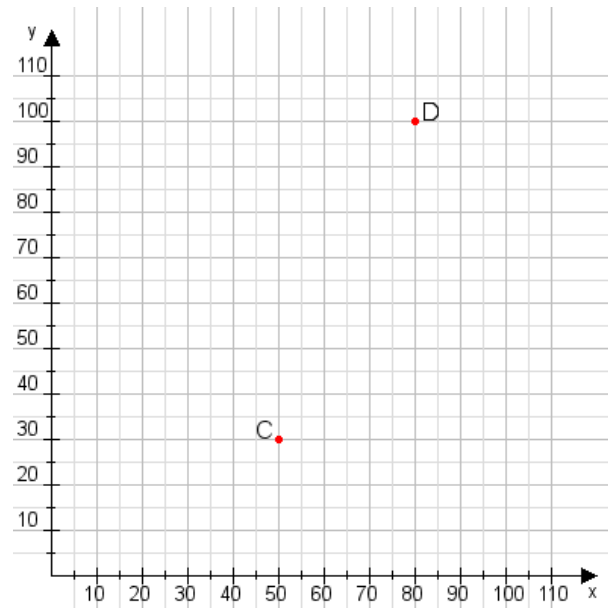


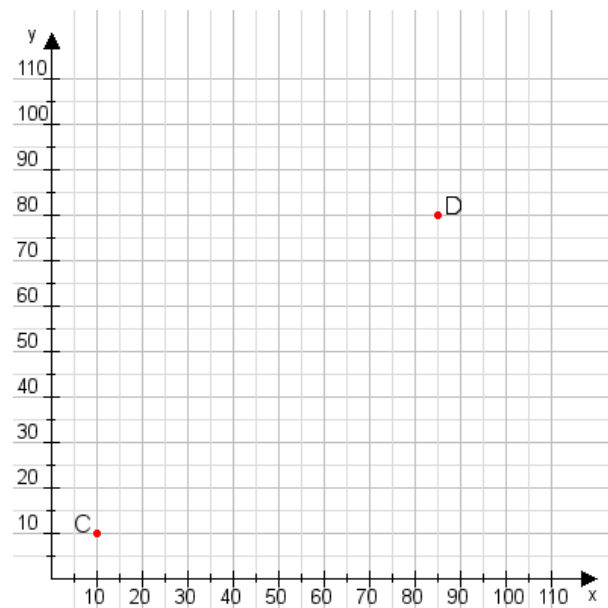
Aufgabe 1:

Zeichne den Punkt A(30|40) und den Punkt B(70|65) in das Koordinatensystem ein und verbinde beide Punkte miteinander. Verbinde die Eingetragenen Punkte C, D und ermittle deren Koordinaten.



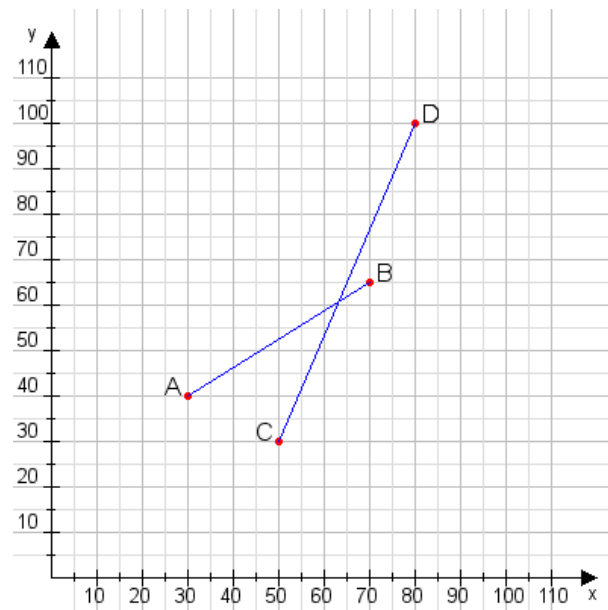
Aufgabe 2:

Zeichne den Punkt A(55|25) und den Punkt B(70|100) in das Koordinatensystem ein und verbinde beide Punkte miteinander. Verbinde die Eingetragenen Punkte C, D und ermittle deren Koordinaten.



Aufgabe 1:

C(50|30), D(80|100)



Aufgabe 2:

C(10|10), D(85|80)

