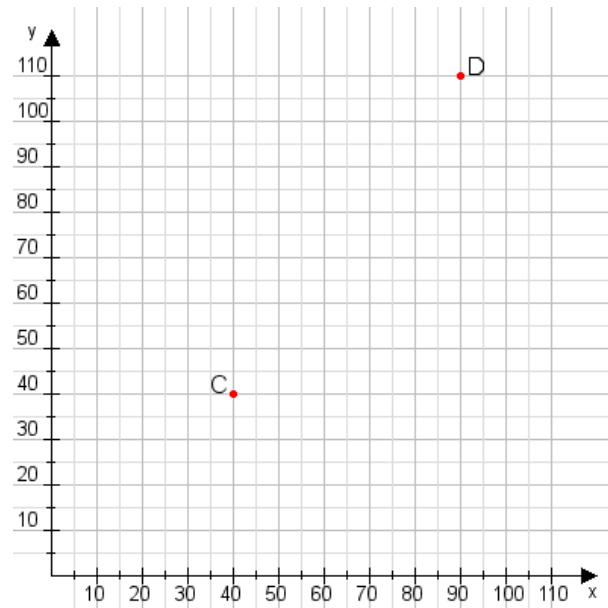


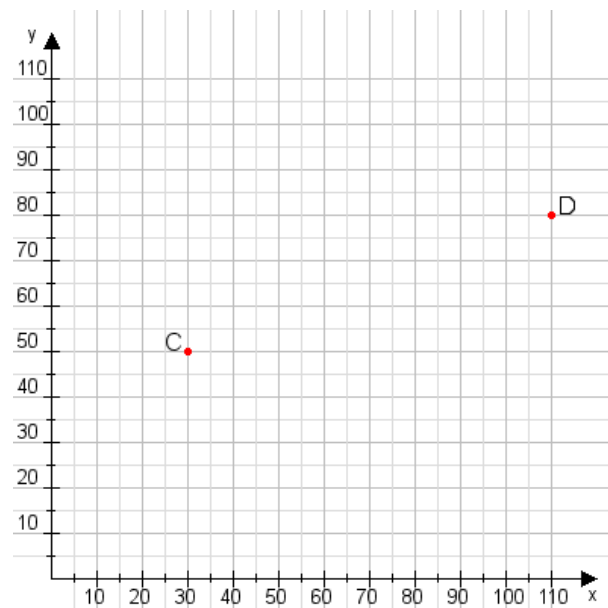
**Aufgabe 1:**

Zeichne den Punkt A(20|40) und den Punkt B(100|105) in das Koordinatensystem ein und verbinde beide Punkte miteinander. Verbinde die Eingetragenen Punkte C, D und ermittle deren Koordinaten.



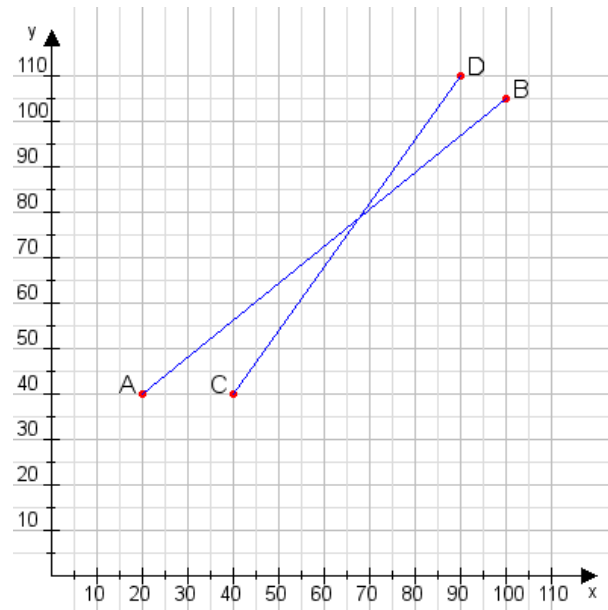
**Aufgabe 2:**

Zeichne den Punkt A(25|30) und den Punkt B(110|80) in das Koordinatensystem ein und verbinde beide Punkte miteinander. Verbinde die Eingetragenen Punkte C, D und ermittle deren Koordinaten.



**Aufgabe 1:**

C(40|40), D(90|110)



**Aufgabe 2:**

C(30|50), D(110|80)

