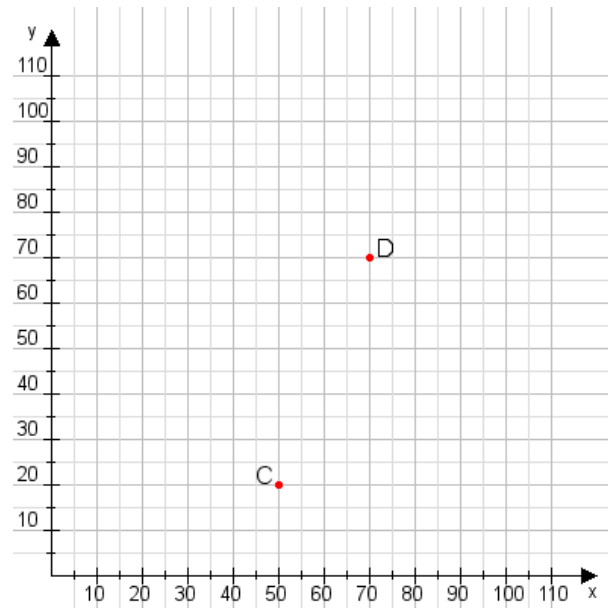


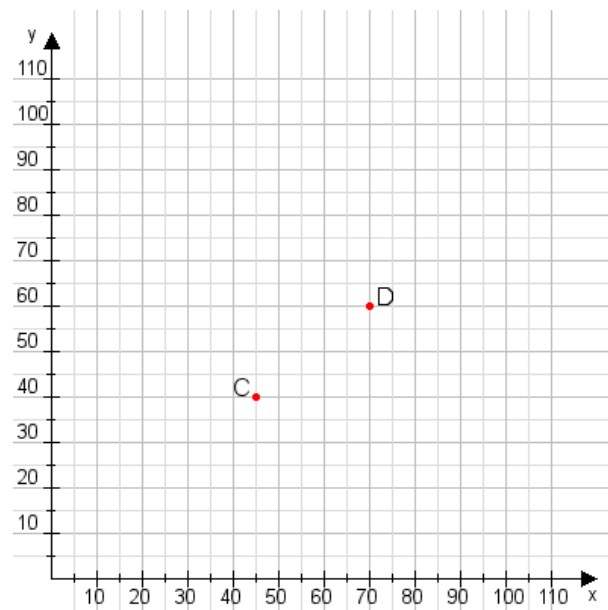
**Aufgabe 1:**

Zeichne den Punkt A(40|30) und den Punkt B(65|80) in das Koordinatensystem ein und verbinde beide Punkte miteinander. Verbinde die Eingetragenen Punkte C, D und ermittle deren Koordinaten.



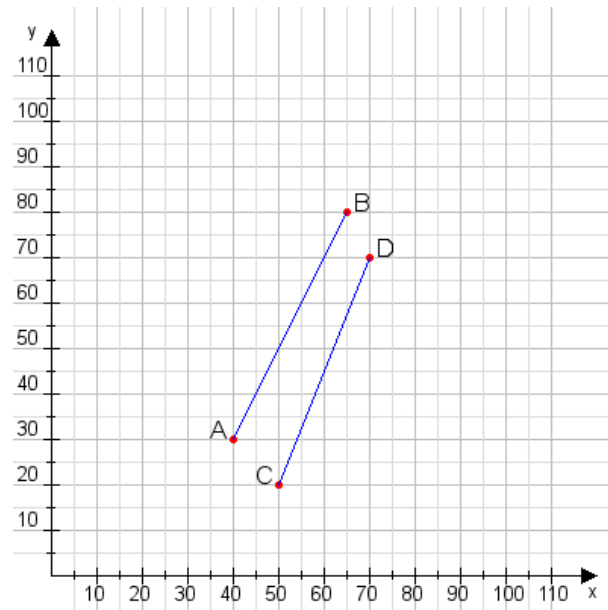
**Aufgabe 2:**

Zeichne den Punkt A(20|50) und den Punkt B(110|110) in das Koordinatensystem ein und verbinde beide Punkte miteinander. Verbinde die Eingetragenen Punkte C, D und ermittle deren Koordinaten.



**Aufgabe 1:**

C(50|20), D(70|70)



**Aufgabe 2:**

C(45|40), D(70|60)

