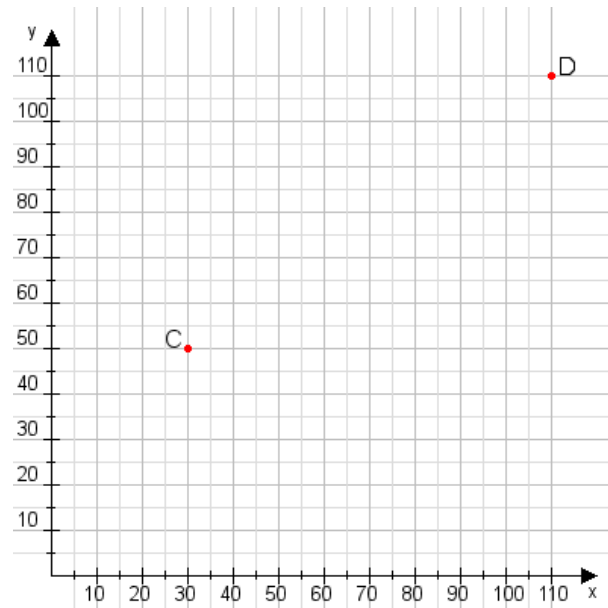


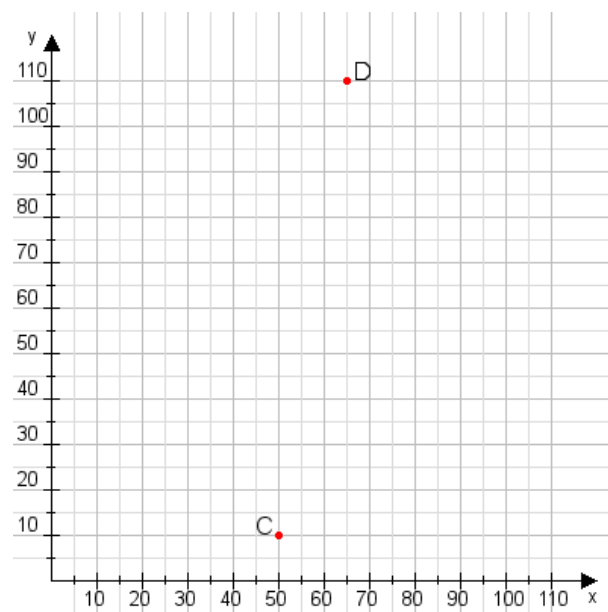
Aufgabe 1:

Zeichne den Punkt A(50|40) und den Punkt B(95|60) in das Koordinatensystem ein und verbinde beide Punkte miteinander. Verbinde die Eingetragenen Punkte C, D und ermittle deren Koordinaten.



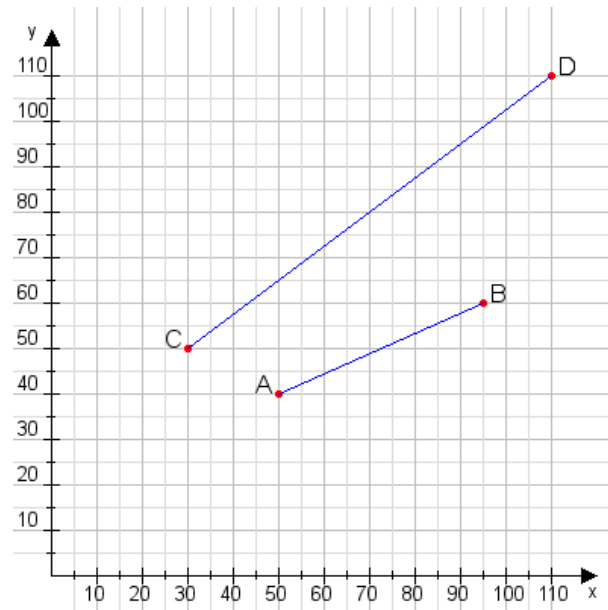
Aufgabe 2:

Zeichne den Punkt A(10|55) und den Punkt B(105|80) in das Koordinatensystem ein und verbinde beide Punkte miteinander. Verbinde die Eingetragenen Punkte C, D und ermittle deren Koordinaten.



Aufgabe 1:

C(30|50), D(110|110)



Aufgabe 2:

C(50|10), D(65|110)

