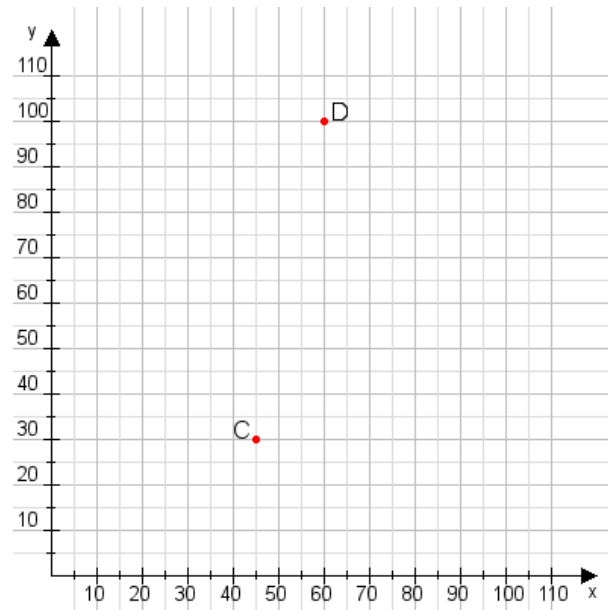


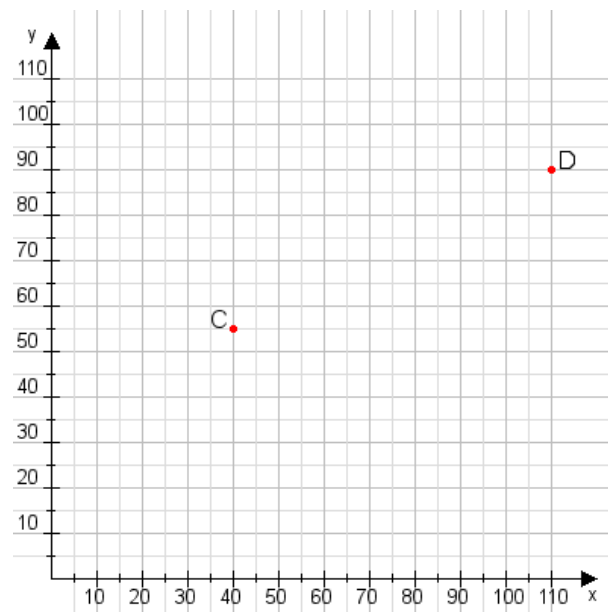
Aufgabe 1:

Zeichne den Punkt A(20|55) und den Punkt B(110|75) in das Koordinatensystem ein und verbinde beide Punkte miteinander. Verbinde die Eingetragenen Punkte C, D und ermittle deren Koordinaten.



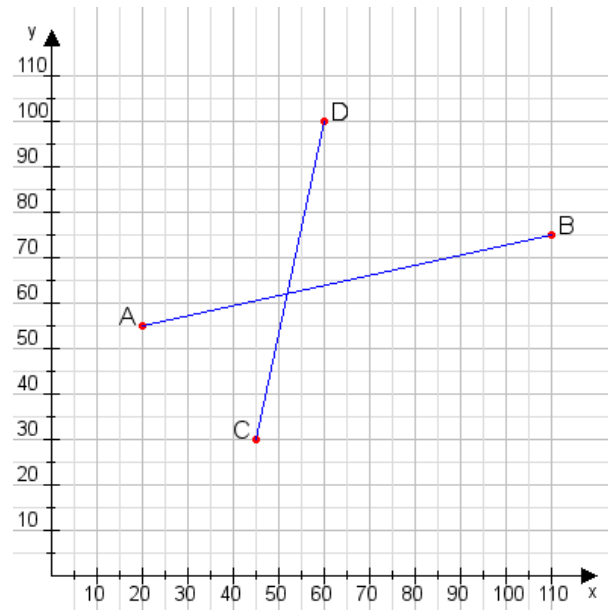
Aufgabe 2:

Zeichne den Punkt A(10|50) und den Punkt B(80|100) in das Koordinatensystem ein und verbinde beide Punkte miteinander. Verbinde die Eingetragenen Punkte C, D und ermittle deren Koordinaten.



Aufgabe 1:

C(45|30), D(60|100)



Aufgabe 2:

C(40|55), D(110|90)

