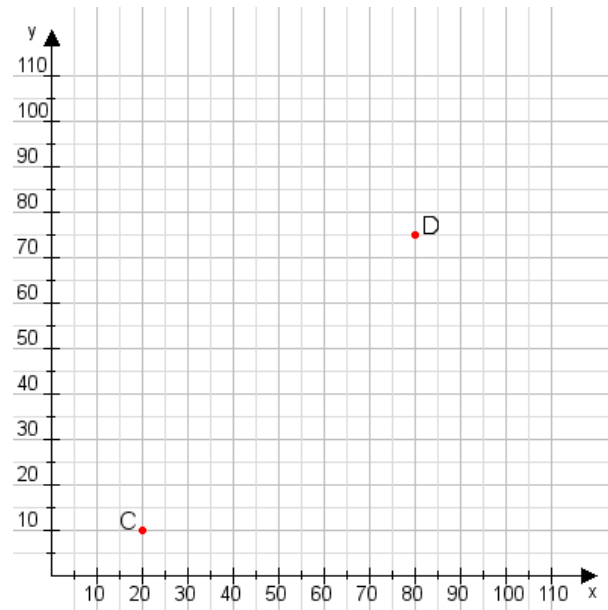


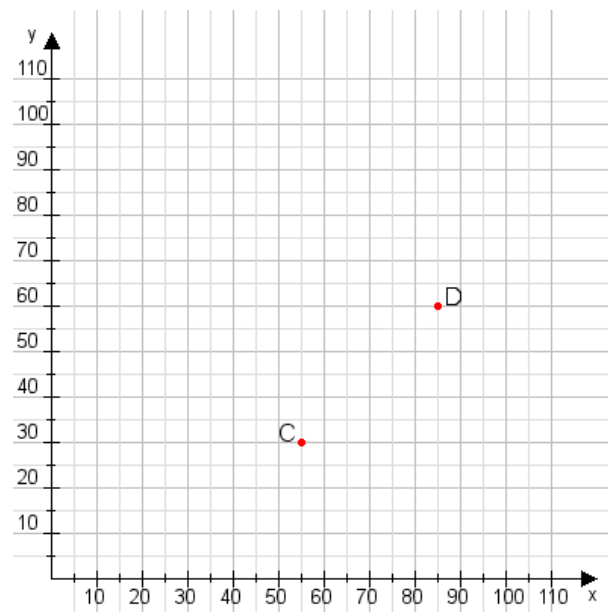
Aufgabe 1:

Zeichne den Punkt A(20|35) und den Punkt B(85|100) in das Koordinatensystem ein und verbinde beide Punkte miteinander. Verbinde die Eingetragenen Punkte C, D und ermittle deren Koordinaten.



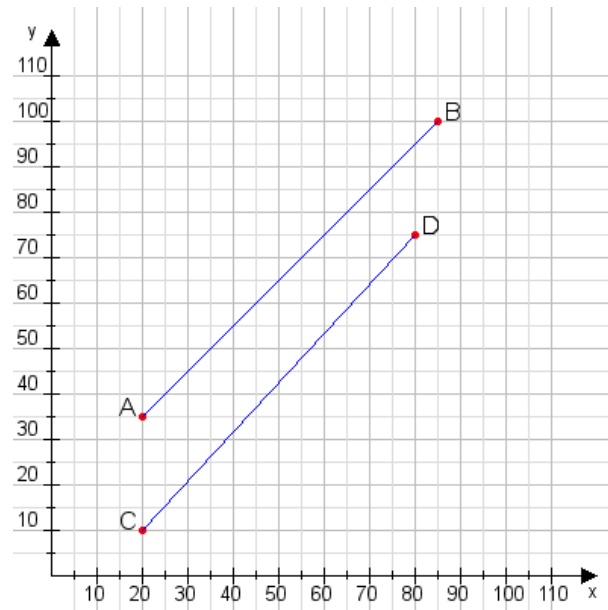
Aufgabe 2:

Zeichne den Punkt A(10|45) und den Punkt B(90|80) in das Koordinatensystem ein und verbinde beide Punkte miteinander. Verbinde die Eingetragenen Punkte C, D und ermittle deren Koordinaten.



Aufgabe 1:

C(20|10), D(80|75)



Aufgabe 2:

C(55|30), D(85|60)

