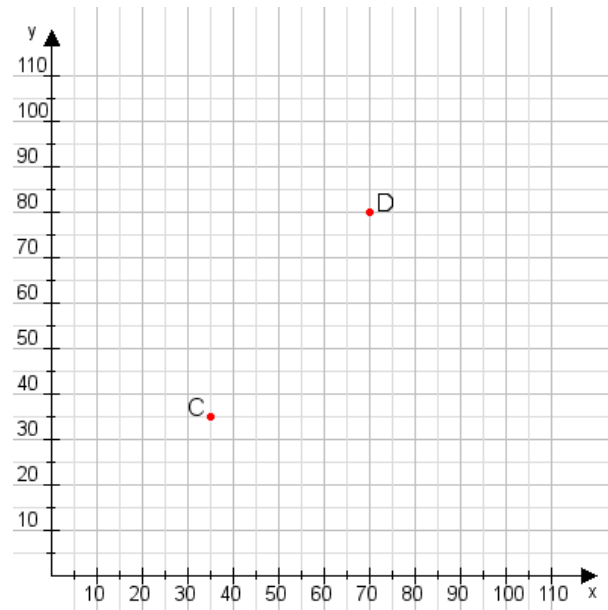


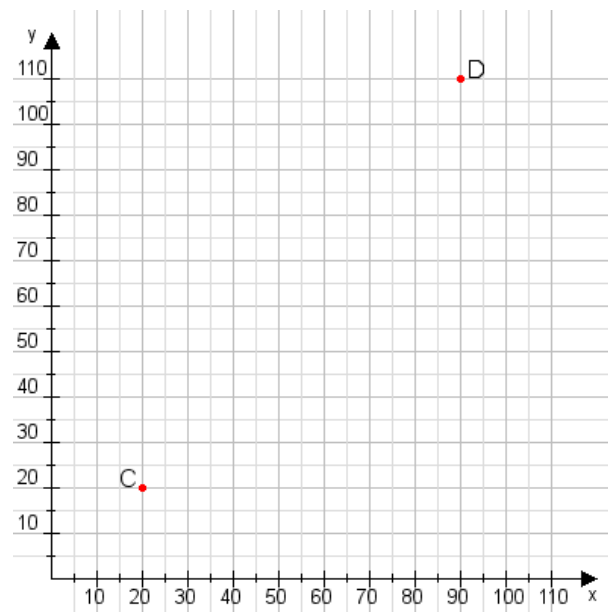
Aufgabe 1:

Zeichne den Punkt A(30|55) und den Punkt B(70|80) in das Koordinatensystem ein und verbinde beide Punkte miteinander. Verbinde die Eingetragenen Punkte C, D und ermittle deren Koordinaten.



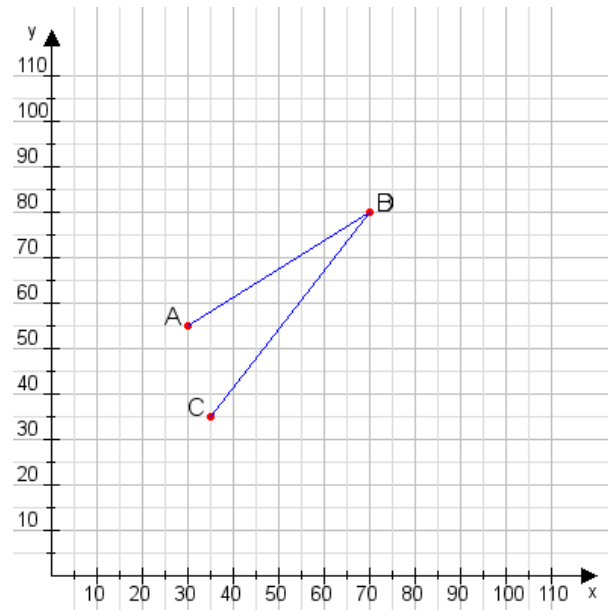
Aufgabe 2:

Zeichne den Punkt A(30|20) und den Punkt B(60|105) in das Koordinatensystem ein und verbinde beide Punkte miteinander. Verbinde die Eingetragenen Punkte C, D und ermittle deren Koordinaten.



Aufgabe 1:

C(35|35), D(70|80)



Aufgabe 2:

C(20|20), D(90|110)

