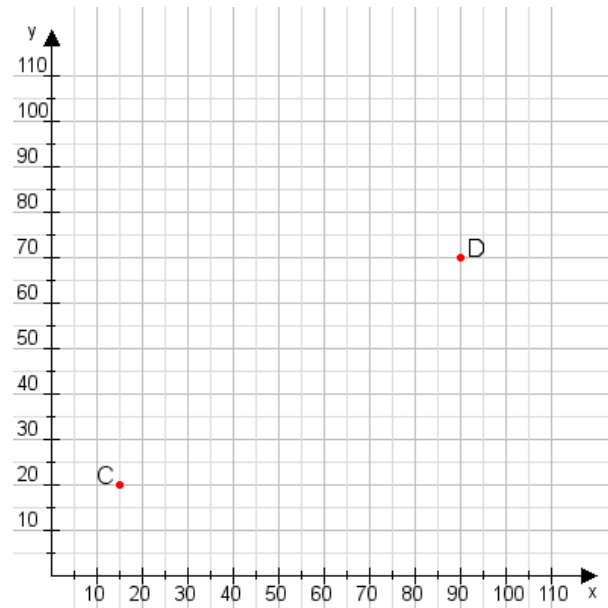


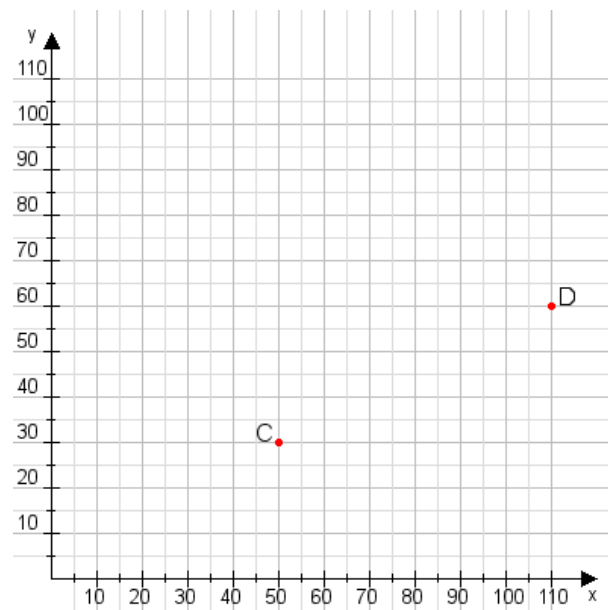
Aufgabe 1:

Zeichne den Punkt A(40|10) und den Punkt B(85|85) in das Koordinatensystem ein und verbinde beide Punkte miteinander. Verbinde die Eingetragenen Punkte C, D und ermittle deren Koordinaten.



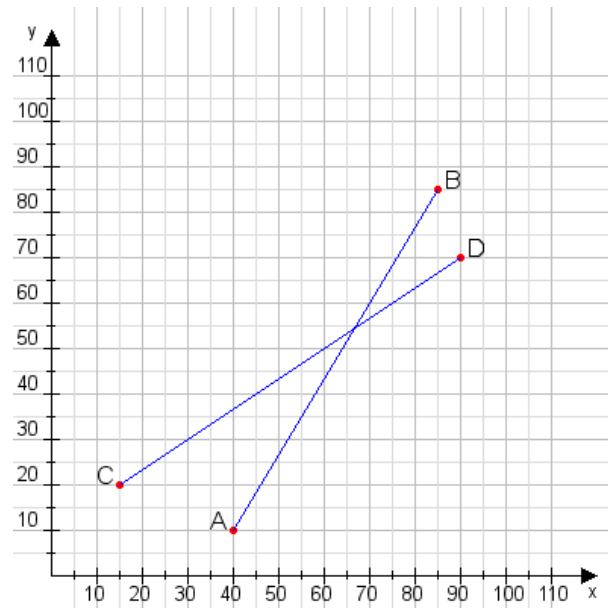
Aufgabe 2:

Zeichne den Punkt A(20|30) und den Punkt B(75|70) in das Koordinatensystem ein und verbinde beide Punkte miteinander. Verbinde die Eingetragenen Punkte C, D und ermittle deren Koordinaten.



Aufgabe 1:

C(15|20), D(90|70)



Aufgabe 2:

C(50|30), D(110|60)

