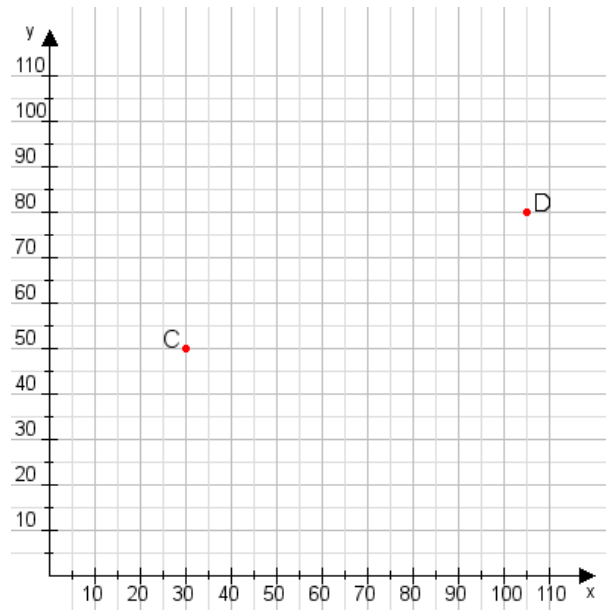


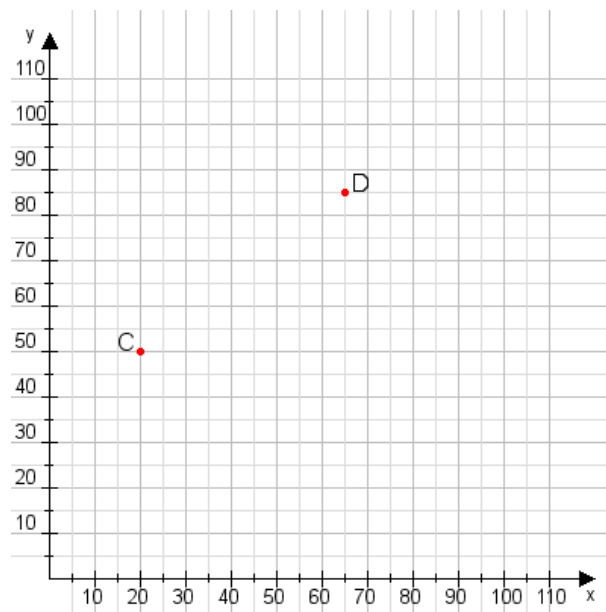
Aufgabe 1:

Zeichne den Punkt A(20|35) und den Punkt B(60|75) in das Koordinatensystem ein und verbinde beide Punkte miteinander. Verbinde die Eingetragenen Punkte C, D und ermittle deren Koordinaten.



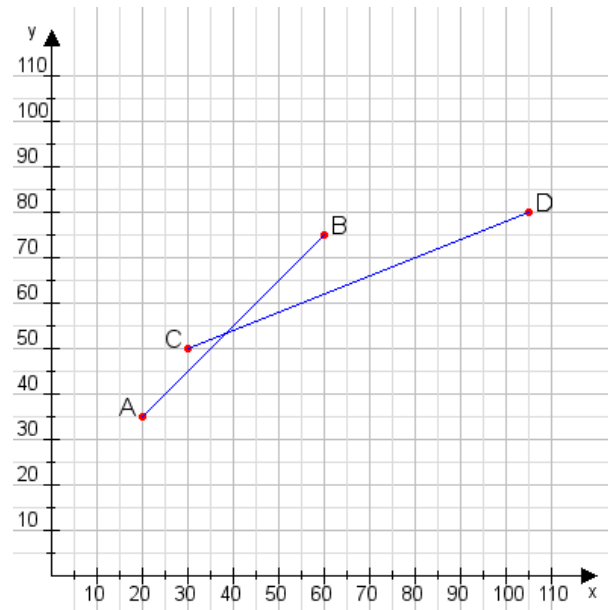
Aufgabe 2:

Zeichne den Punkt A(20|15) und den Punkt B(90|100) in das Koordinatensystem ein und verbinde beide Punkte miteinander. Verbinde die Eingetragenen Punkte C, D und ermittle deren Koordinaten.



Aufgabe 1:

C(30|50), D(105|80)



Aufgabe 2:

C(20|50), D(65|85)

