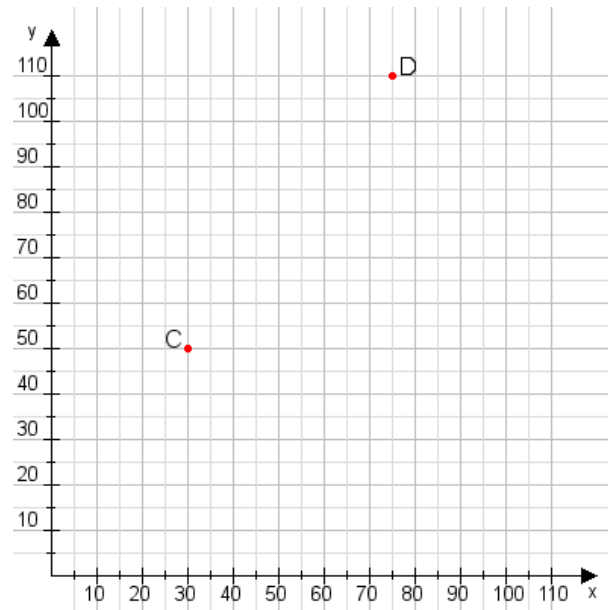


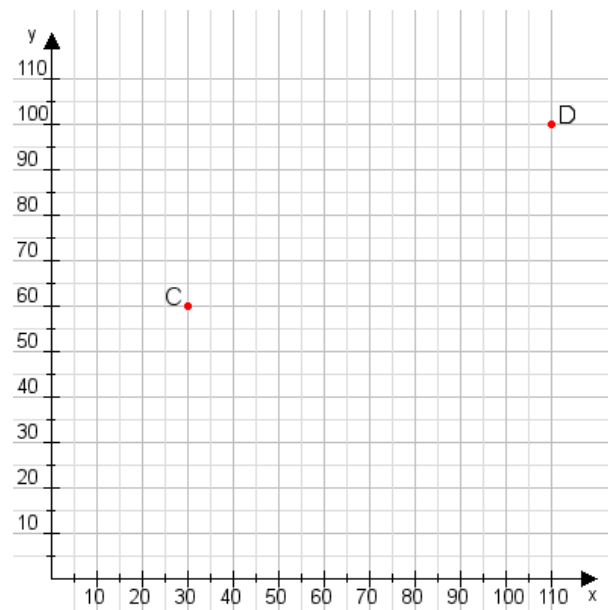
**Aufgabe 1:**

Zeichne den Punkt A(40|60) und den Punkt B(90|70) in das Koordinatensystem ein und verbinde beide Punkte miteinander. Verbinde die Eingetragenen Punkte C, D und ermittle deren Koordinaten.



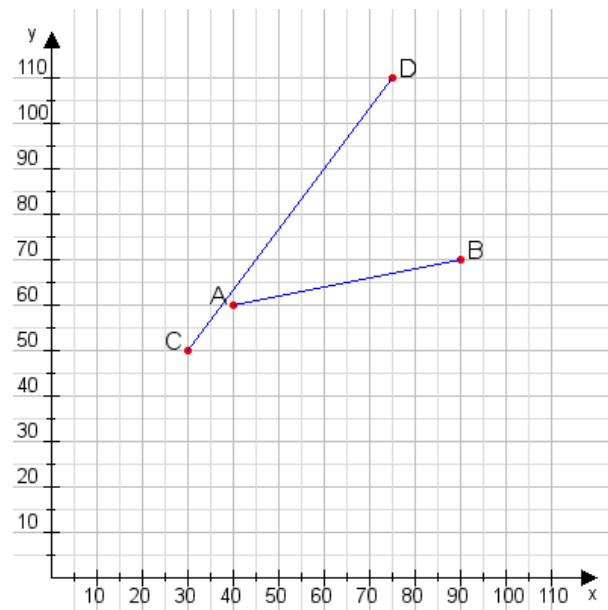
**Aufgabe 2:**

Zeichne den Punkt A(10|50) und den Punkt B(100|75) in das Koordinatensystem ein und verbinde beide Punkte miteinander. Verbinde die Eingetragenen Punkte C, D und ermittle deren Koordinaten.



**Aufgabe 1:**

**C(30|50), D(75|110)**



**Aufgabe 2:**

**C(30|60), D(110|100)**

