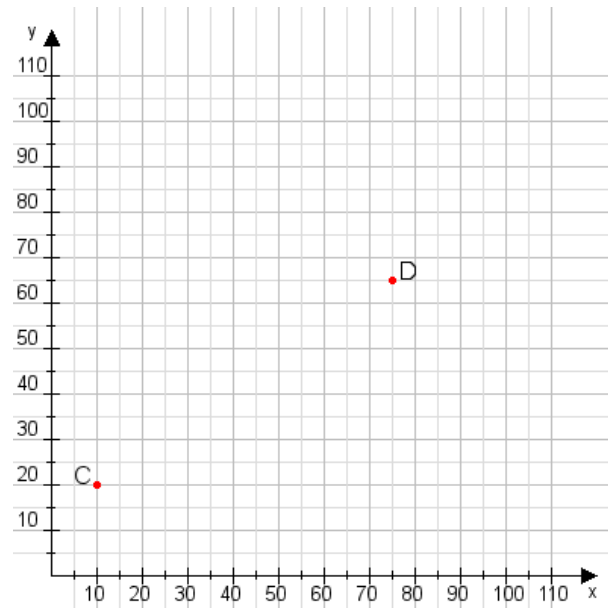


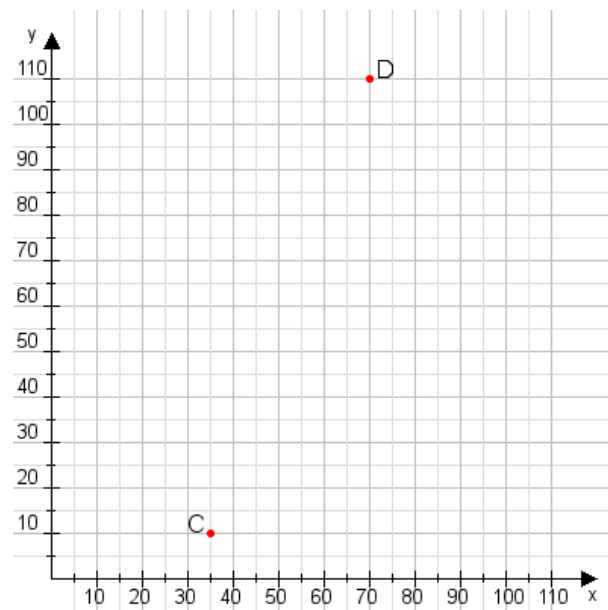
Aufgabe 1:

Zeichne den Punkt A(30|40) und den Punkt B(70|115) in das Koordinatensystem ein und verbinde beide Punkte miteinander. Verbinde die Eingetragenen Punkte C, D und ermittle deren Koordinaten.



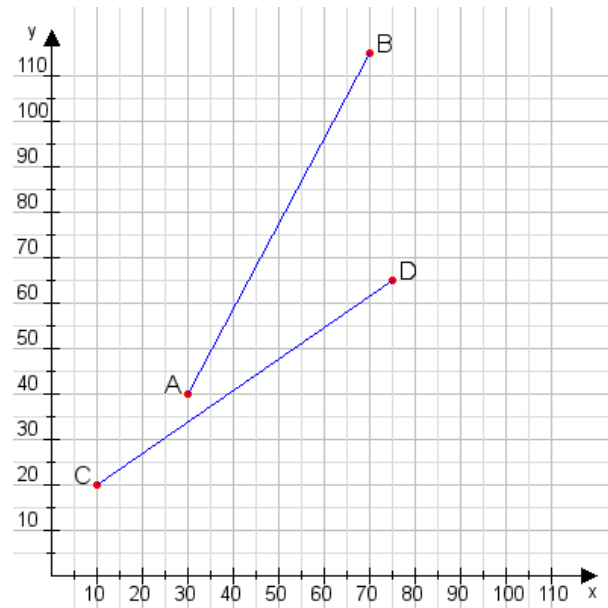
Aufgabe 2:

Zeichne den Punkt A(30|40) und den Punkt B(110|90) in das Koordinatensystem ein und verbinde beide Punkte miteinander. Verbinde die Eingetragenen Punkte C, D und ermittle deren Koordinaten.



Aufgabe 1:

C(10|20), D(75|65)



Aufgabe 2:

C(35|10), D(70|110)

