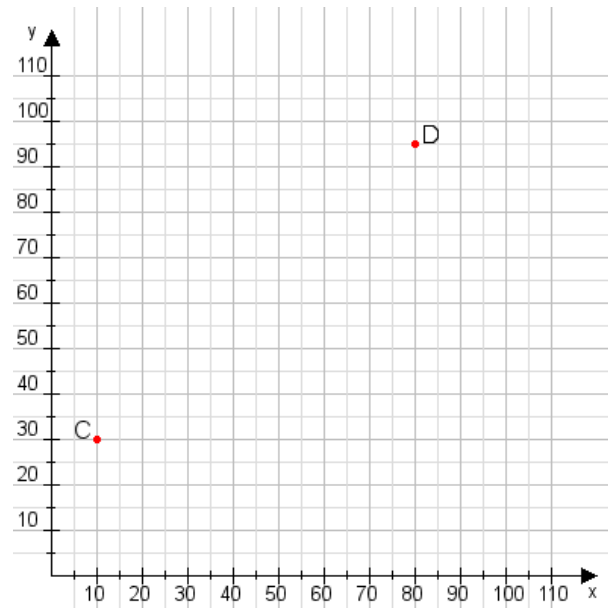


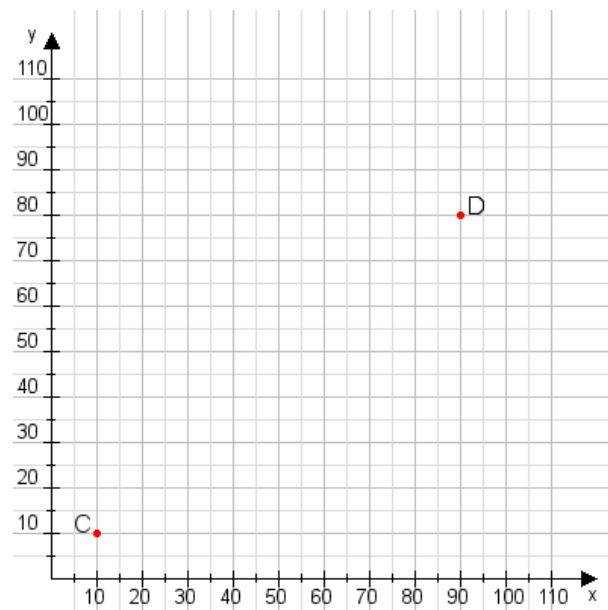
Aufgabe 1:

Zeichne den Punkt A(25|30) und den Punkt B(80|75) in das Koordinatensystem ein und verbinde beide Punkte miteinander. Verbinde die Eingetragenen Punkte C, D und ermittle deren Koordinaten.



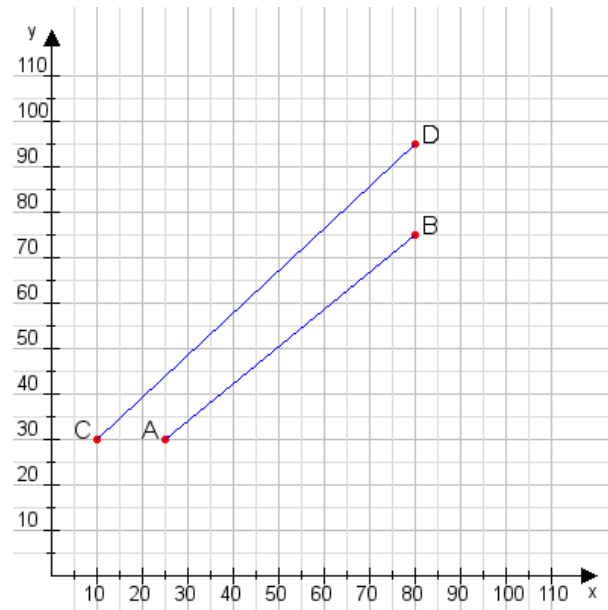
Aufgabe 2:

Zeichne den Punkt A(10|10) und den Punkt B(60|95) in das Koordinatensystem ein und verbinde beide Punkte miteinander. Verbinde die Eingetragenen Punkte C, D und ermittle deren Koordinaten.



Aufgabe 1:

C(10|30), D(80|95)



Aufgabe 2:

C(10|10), D(90|80)

