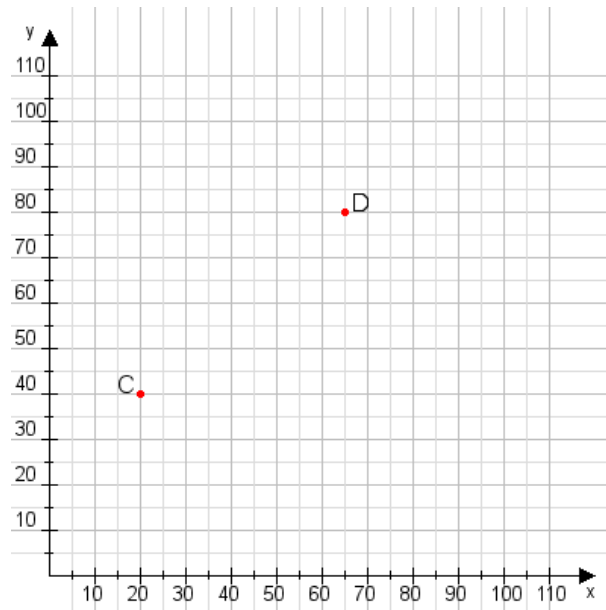


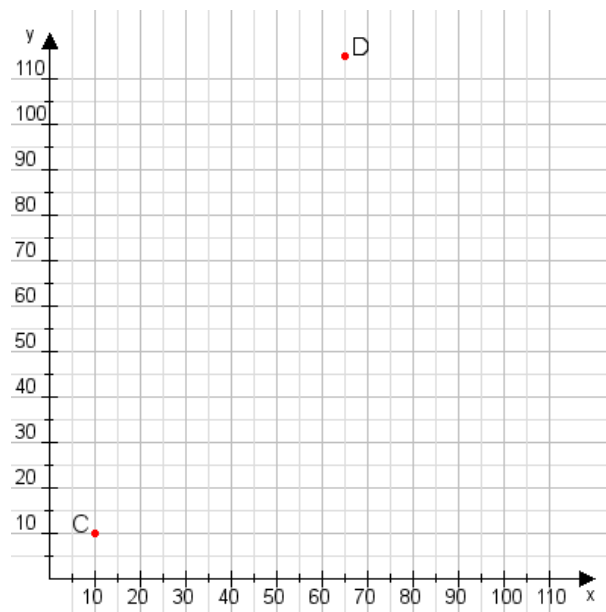
**Aufgabe 1:**

Zeichne den Punkt A(35|35) und den Punkt B(110|70) in das Koordinatensystem ein und verbinde beide Punkte miteinander. Verbinde die Eingetragenen Punkte C, D und ermittle deren Koordinaten.



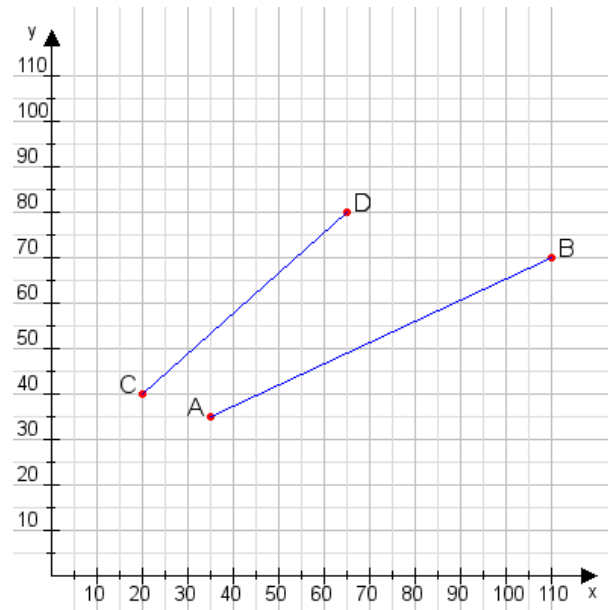
**Aufgabe 2:**

Zeichne den Punkt A(20|20) und den Punkt B(100|75) in das Koordinatensystem ein und verbinde beide Punkte miteinander. Verbinde die Eingetragenen Punkte C, D und ermittle deren Koordinaten.



**Aufgabe 1:**

C(20|40), D(65|80)



**Aufgabe 2:**

C(10|10), D(65|115)

