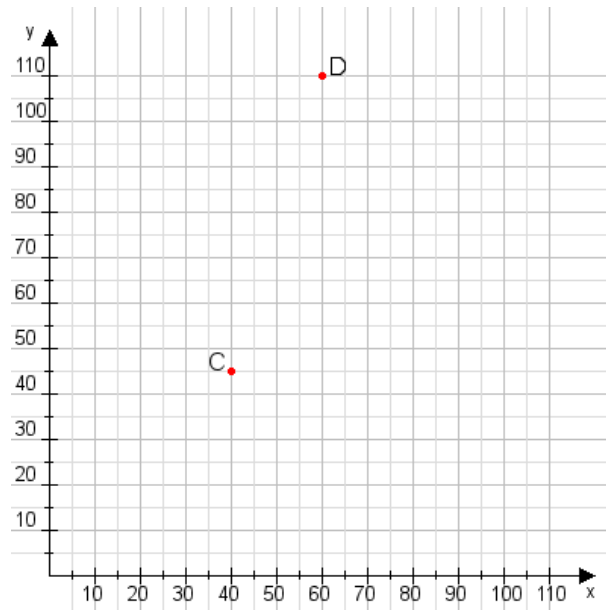


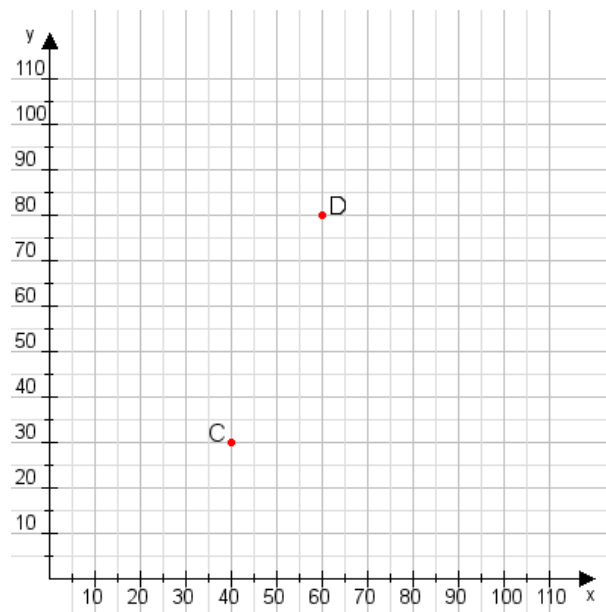
Aufgabe 1:

Zeichne den Punkt A(40|35) und den Punkt B(60|75) in das Koordinatensystem ein und verbinde beide Punkte miteinander. Verbinde die Eingetragenen Punkte C, D und ermittle deren Koordinaten.



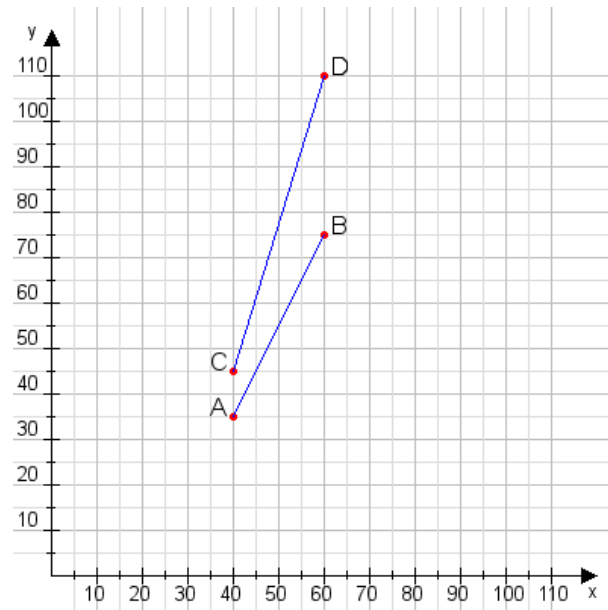
Aufgabe 2:

Zeichne den Punkt A(15|20) und den Punkt B(110|60) in das Koordinatensystem ein und verbinde beide Punkte miteinander. Verbinde die Eingetragenen Punkte C, D und ermittle deren Koordinaten.



Aufgabe 1:

C(40|45), D(60|110)



Aufgabe 2:

C(40|30), D(60|80)

