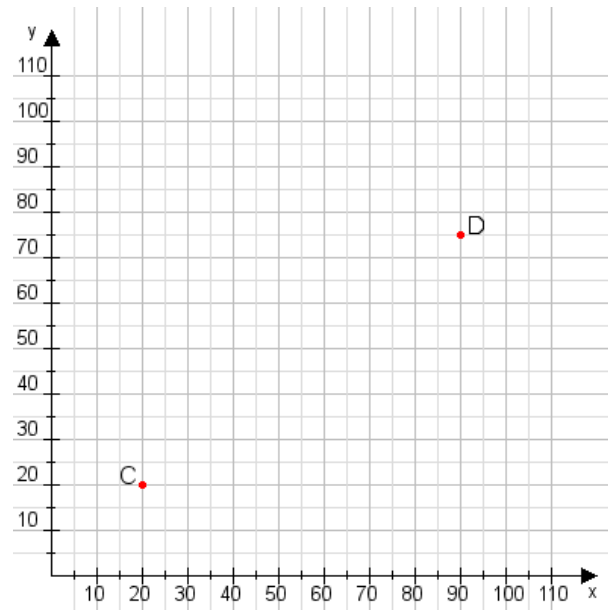


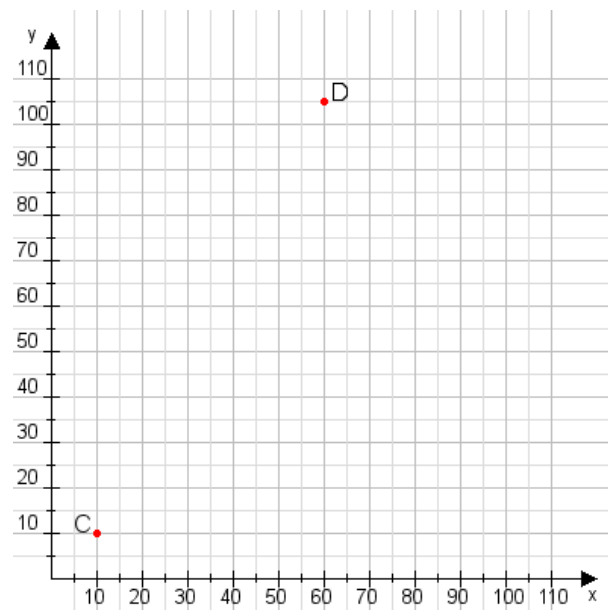
Aufgabe 1:

Zeichne den Punkt A(30|10) und den Punkt B(100|70) in das Koordinatensystem ein und verbinde beide Punkte miteinander. Verbinde die Eingetragenen Punkte C, D und ermittle deren Koordinaten.

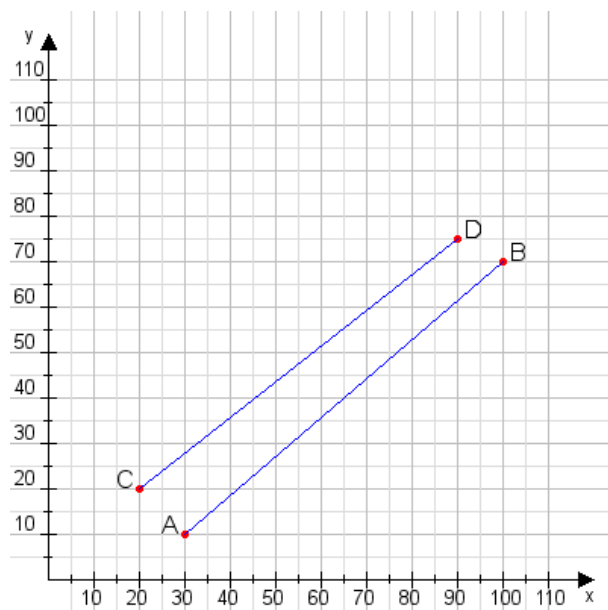


Aufgabe 2:

Zeichne den Punkt A(10|40) und den Punkt B(115|115) in das Koordinatensystem ein und verbinde beide Punkte miteinander. Verbinde die Eingetragenen Punkte C, D und ermittle deren Koordinaten.



Aufgabe 1:
C(20|20), D(90|75)



Aufgabe 2:
C(10|10), D(60|105)

