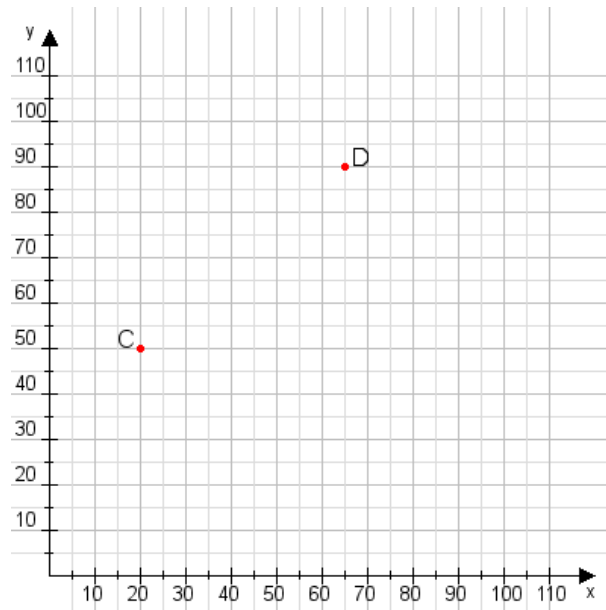


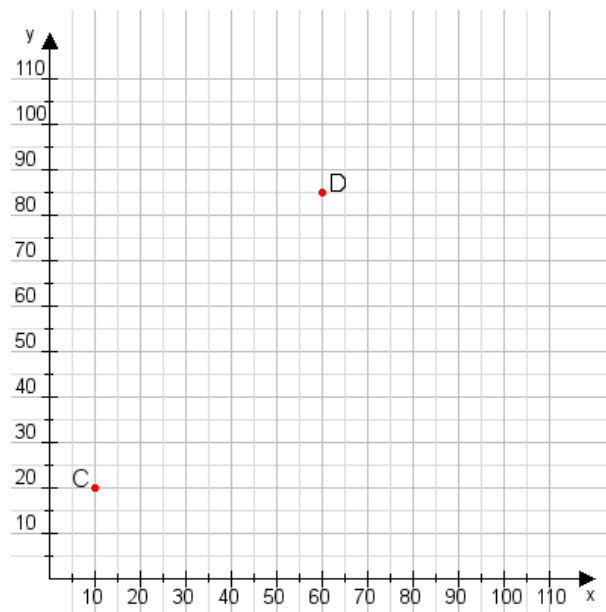
Aufgabe 1:

Zeichne den Punkt A(55|25) und den Punkt B(60|70) in das Koordinatensystem ein und verbinde beide Punkte miteinander. Verbinde die Eingetragenen Punkte C, D und ermittle deren Koordinaten.



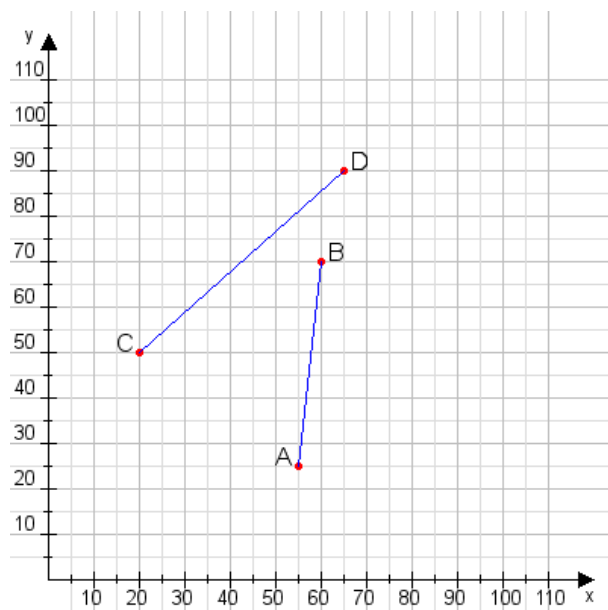
Aufgabe 2:

Zeichne den Punkt A(45|10) und den Punkt B(75|100) in das Koordinatensystem ein und verbinde beide Punkte miteinander. Verbinde die Eingetragenen Punkte C, D und ermittle deren Koordinaten.



Aufgabe 1:

C(20|50), D(65|90)



Aufgabe 2:

C(10|20), D(60|85)

