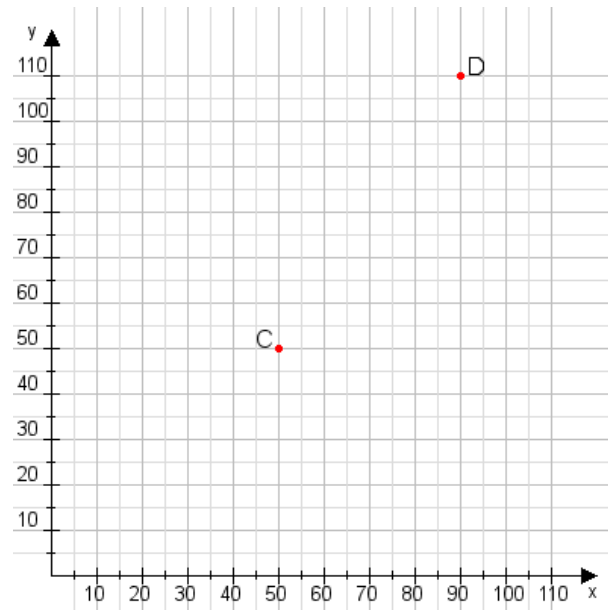


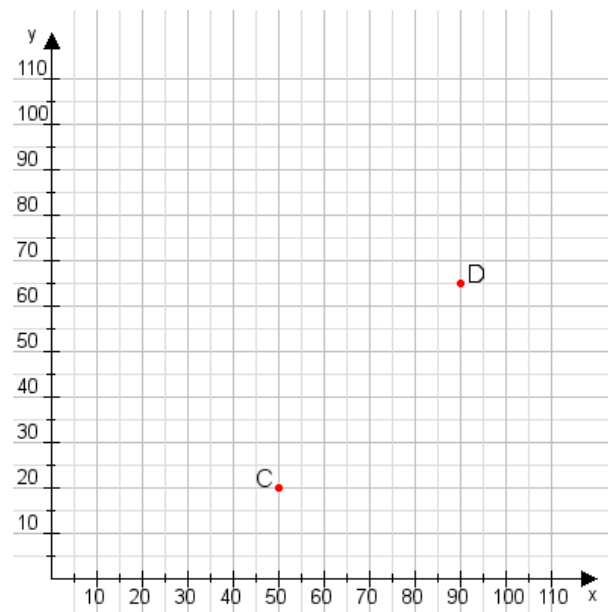
Aufgabe 1:

Zeichne den Punkt A(40|30) und den Punkt B(125|80) in das Koordinatensystem ein und verbinde beide Punkte miteinander. Verbinde die Eingetragenen Punkte C, D und ermittle deren Koordinaten.



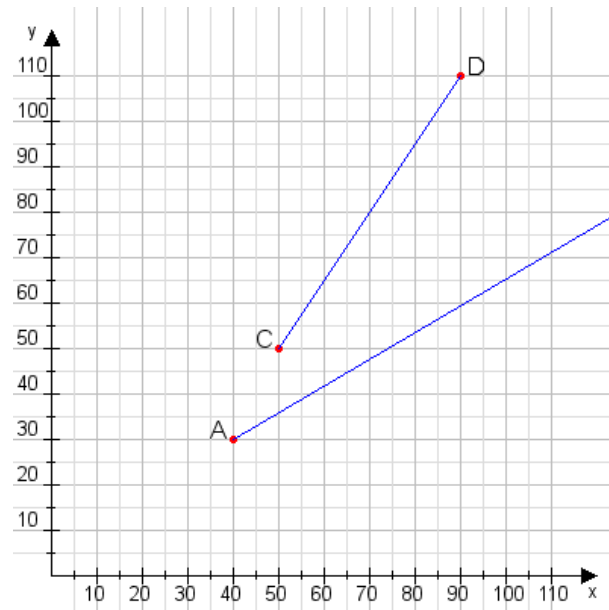
Aufgabe 2:

Zeichne den Punkt A(25|35) und den Punkt B(90|60) in das Koordinatensystem ein und verbinde beide Punkte miteinander. Verbinde die Eingetragenen Punkte C, D und ermittle deren Koordinaten.



Aufgabe 1:

C(50|50), D(90|110)



Aufgabe 2:

C(50|20), D(90|65)

