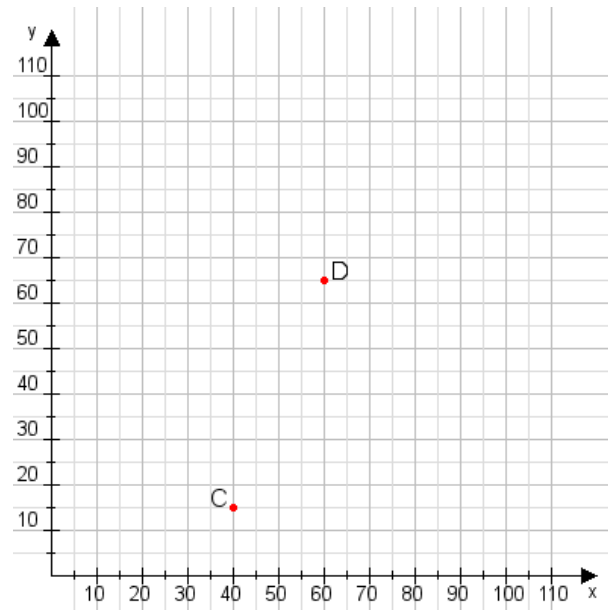


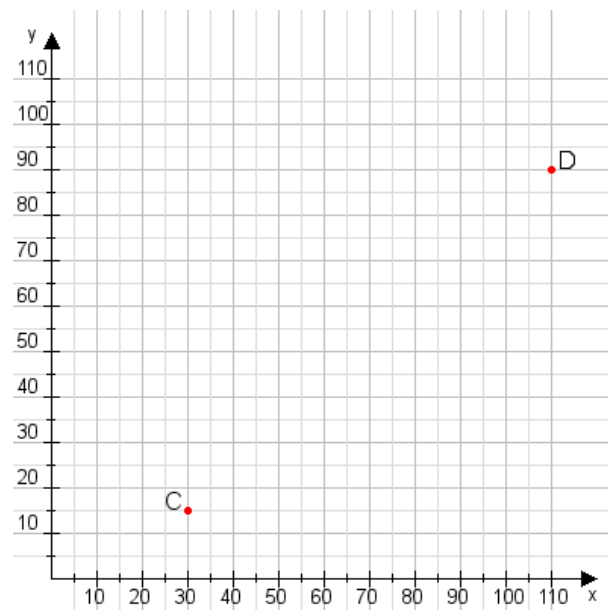
**Aufgabe 1:**

Zeichne den Punkt A(30|40) und den Punkt B(75|60) in das Koordinatensystem ein und verbinde beide Punkte miteinander. Verbinde die Eingetragenen Punkte C, D und ermittle deren Koordinaten.



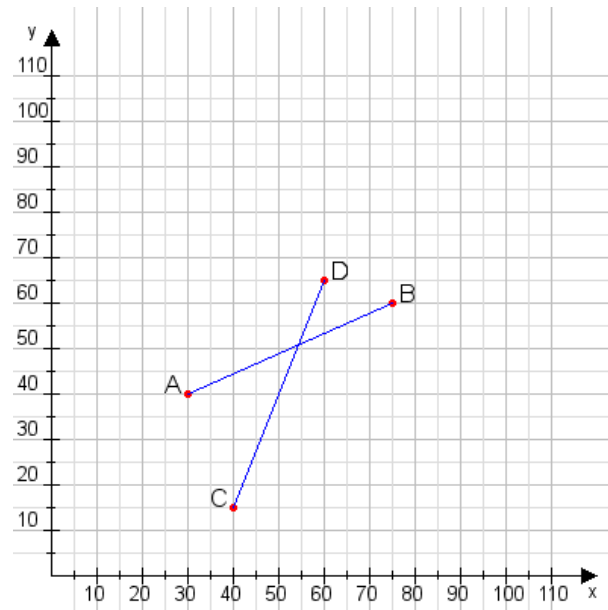
**Aufgabe 2:**

Zeichne den Punkt A(45|40) und den Punkt B(95|90) in das Koordinatensystem ein und verbinde beide Punkte miteinander. Verbinde die Eingetragenen Punkte C, D und ermittle deren Koordinaten.



**Aufgabe 1:**

**C(40|15), D(60|65)**



**Aufgabe 2:**

**C(30|15), D(110|90)**

