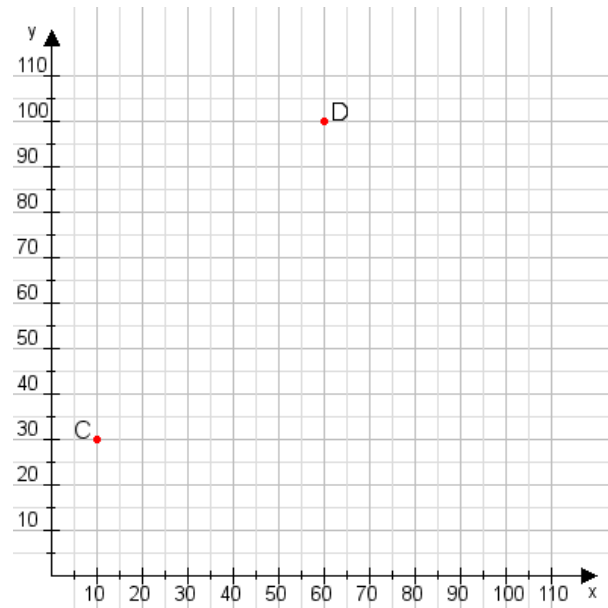


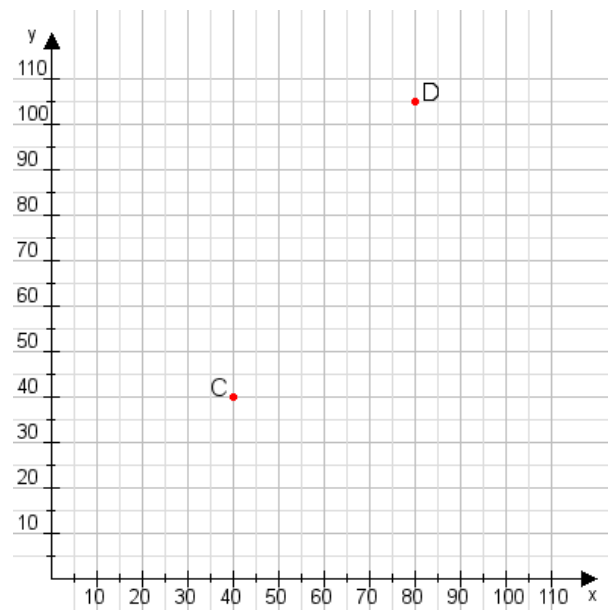
**Aufgabe 1:**

Zeichne den Punkt A(10|40) und den Punkt B(85|70) in das Koordinatensystem ein und verbinde beide Punkte miteinander. Verbinde die Eingetragenen Punkte C, D und ermittle deren Koordinaten.



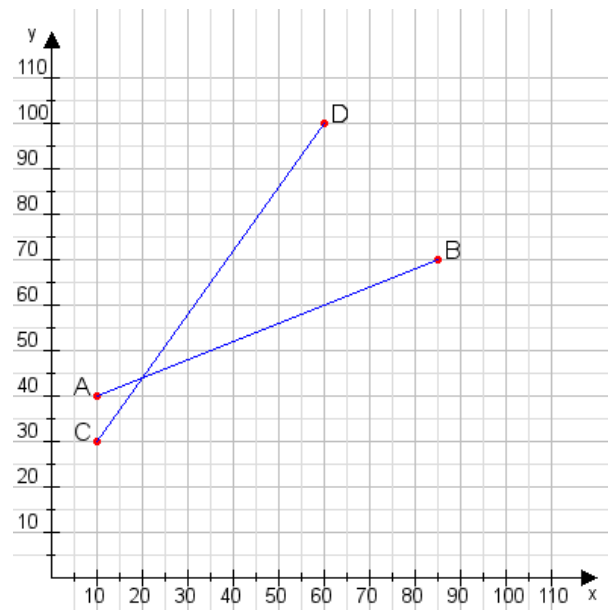
**Aufgabe 2:**

Zeichne den Punkt A(25|45) und den Punkt B(70|60) in das Koordinatensystem ein und verbinde beide Punkte miteinander. Verbinde die Eingetragenen Punkte C, D und ermittle deren Koordinaten.



**Aufgabe 1:**

**C(10|30), D(60|100)**



**Aufgabe 2:**

**C(40|40), D(80|105)**

