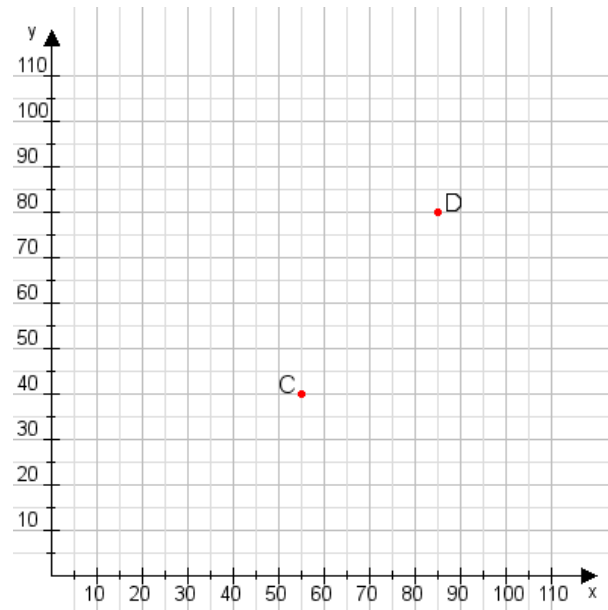


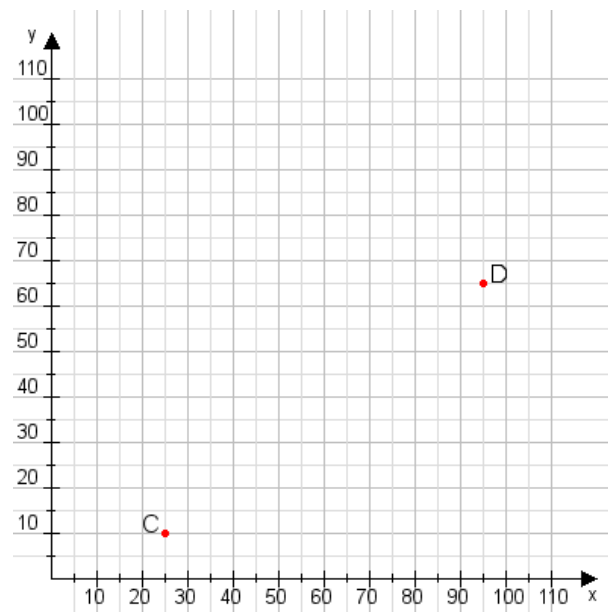
Aufgabe 1:

Zeichne den Punkt A(35|30) und den Punkt B(110|90) in das Koordinatensystem ein und verbinde beide Punkte miteinander. Verbinde die Eingetragenen Punkte C, D und ermittle deren Koordinaten.



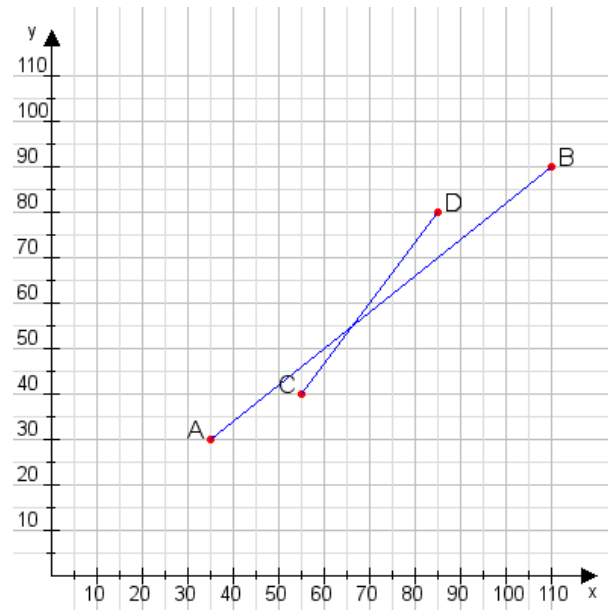
Aufgabe 2:

Zeichne den Punkt A(20|20) und den Punkt B(110|60) in das Koordinatensystem ein und verbinde beide Punkte miteinander. Verbinde die Eingetragenen Punkte C, D und ermittle deren Koordinaten.



Aufgabe 1:

C(55|40), D(85|80)



Aufgabe 2:

C(25|10), D(95|65)

