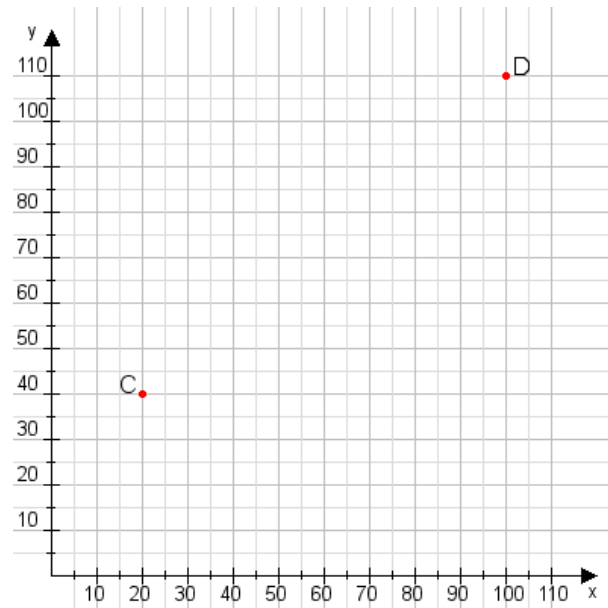


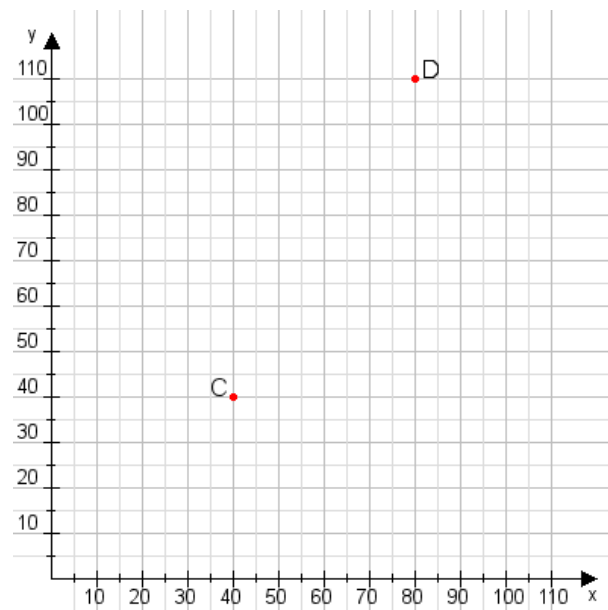
Aufgabe 1:

Zeichne den Punkt A(50|10) und den Punkt B(65|80) in das Koordinatensystem ein und verbinde beide Punkte miteinander. Verbinde die Eingetragenen Punkte C, D und ermittle deren Koordinaten.



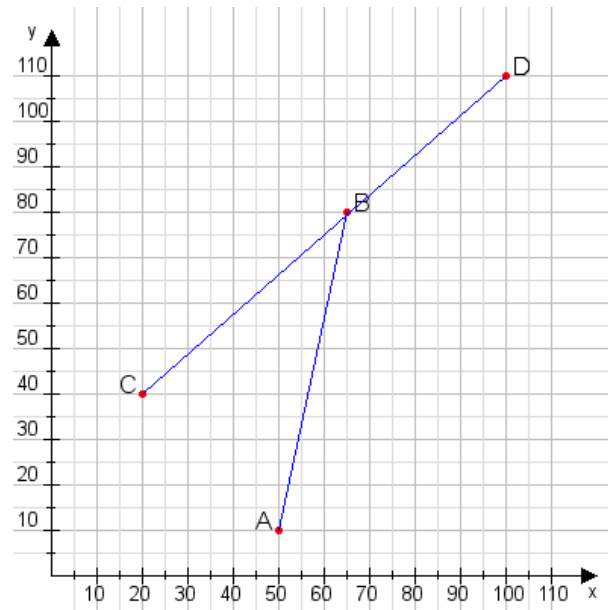
Aufgabe 2:

Zeichne den Punkt A(50|40) und den Punkt B(70|75) in das Koordinatensystem ein und verbinde beide Punkte miteinander. Verbinde die Eingetragenen Punkte C, D und ermittle deren Koordinaten.



Aufgabe 1:

C(20|40), D(100|110)



Aufgabe 2:

C(40|40), D(80|110)

