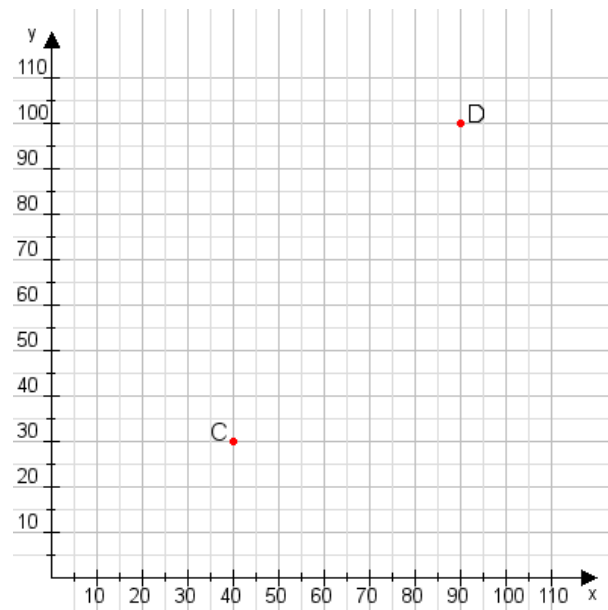


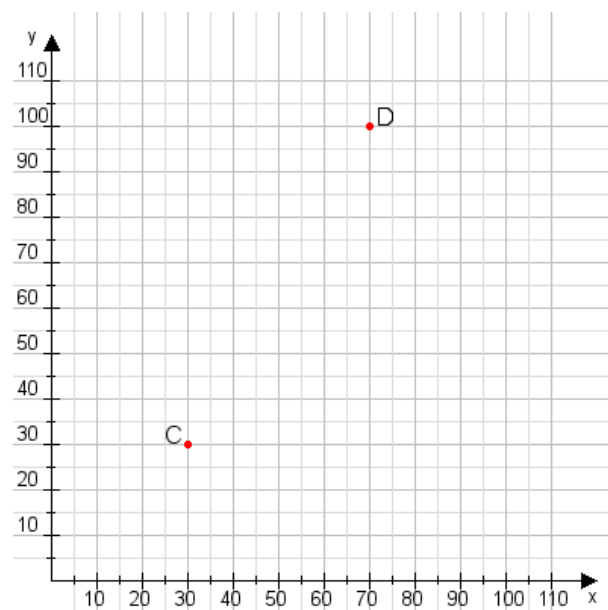
Aufgabe 1:

Zeichne den Punkt A(10|40) und den Punkt B(105|90) in das Koordinatensystem ein und verbinde beide Punkte miteinander. Verbinde die Eingetragenen Punkte C, D und ermittle deren Koordinaten.



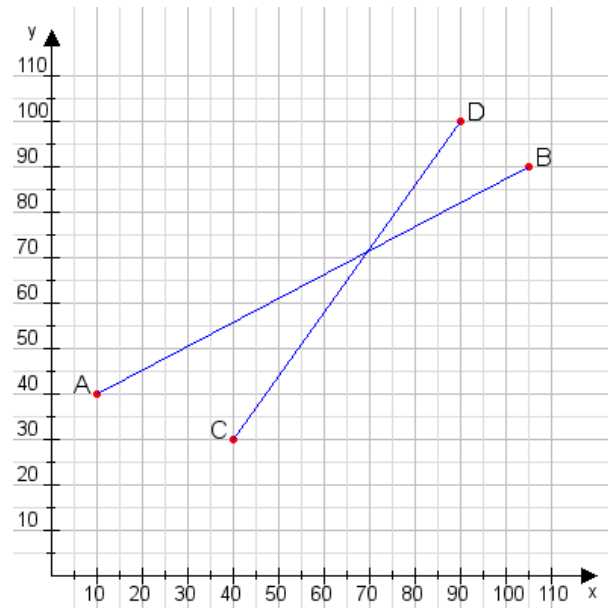
Aufgabe 2:

Zeichne den Punkt A(15|20) und den Punkt B(100|80) in das Koordinatensystem ein und verbinde beide Punkte miteinander. Verbinde die Eingetragenen Punkte C, D und ermittle deren Koordinaten.



Aufgabe 1:

C(40|30), D(90|100)



Aufgabe 2:

C(30|30), D(70|100)

