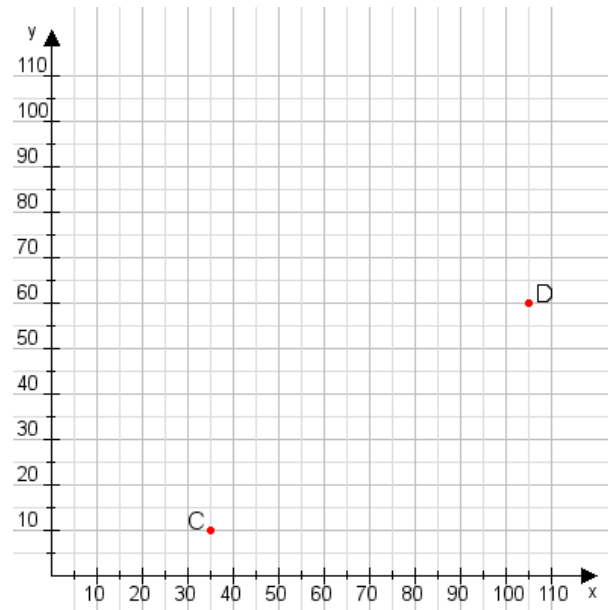


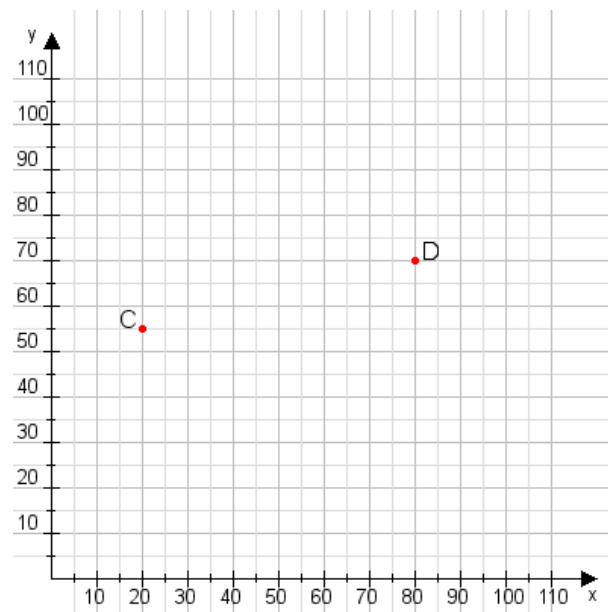
Aufgabe 1:

Zeichne den Punkt A(30|25) und den Punkt B(70|60) in das Koordinatensystem ein und verbinde beide Punkte miteinander. Verbinde die Eingetragenen Punkte C, D und ermittle deren Koordinaten.



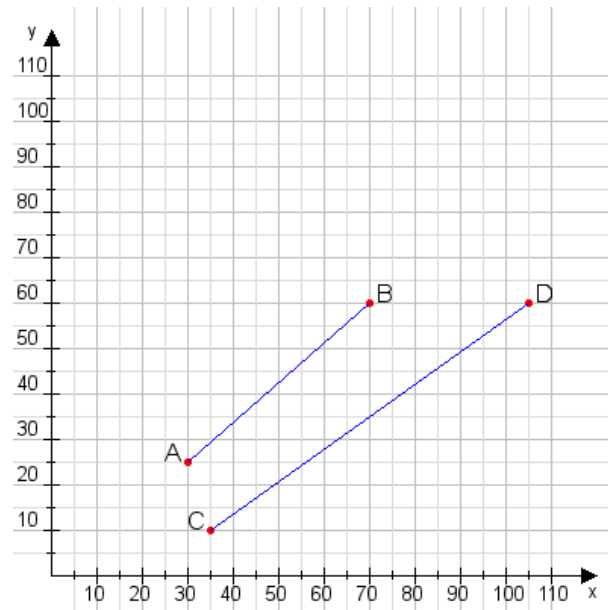
Aufgabe 2:

Zeichne den Punkt A(50|45) und den Punkt B(90|75) in das Koordinatensystem ein und verbinde beide Punkte miteinander. Verbinde die Eingetragenen Punkte C, D und ermittle deren Koordinaten.



Aufgabe 1:

C(35|10), D(105|60)



Aufgabe 2:

C(20|55), D(80|70)

