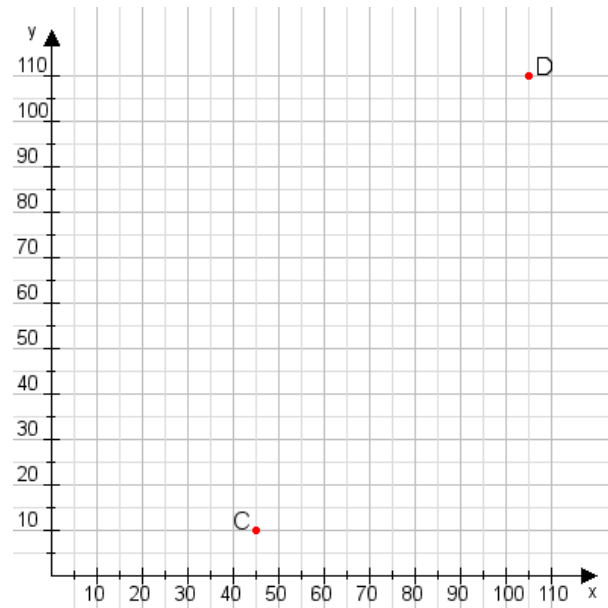


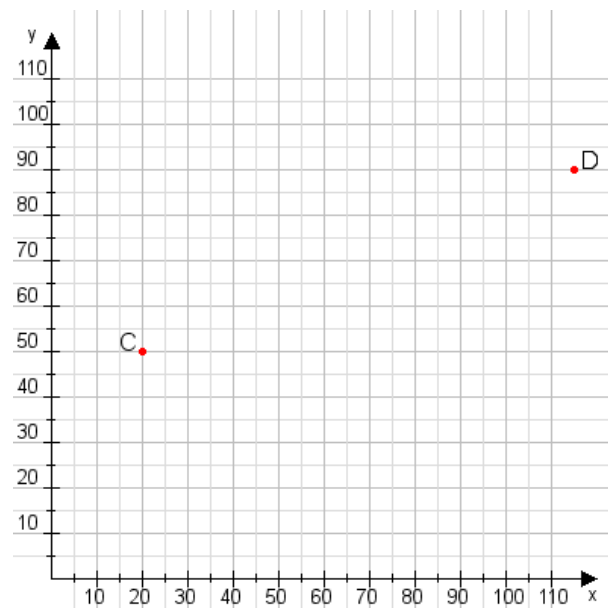
Aufgabe 1:

Zeichne den Punkt A(50|35) und den Punkt B(70|110) in das Koordinatensystem ein und verbinde beide Punkte miteinander. Verbinde die Eingetragenen Punkte C, D und ermittle deren Koordinaten.



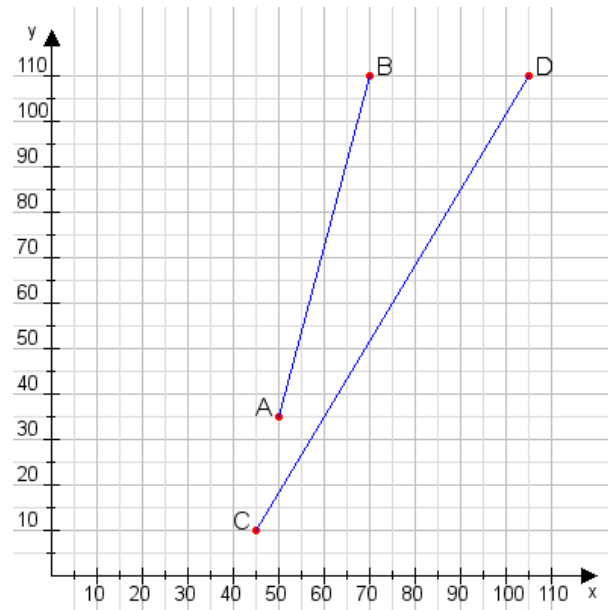
Aufgabe 2:

Zeichne den Punkt A(45|50) und den Punkt B(115|110) in das Koordinatensystem ein und verbinde beide Punkte miteinander. Verbinde die Eingetragenen Punkte C, D und ermittle deren Koordinaten.



Aufgabe 1:

C(45|10), D(105|110)



Aufgabe 2:

C(20|50), D(115|90)

