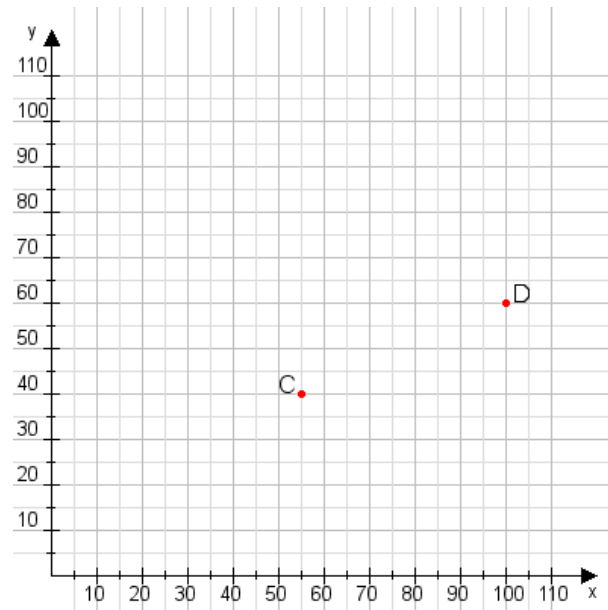


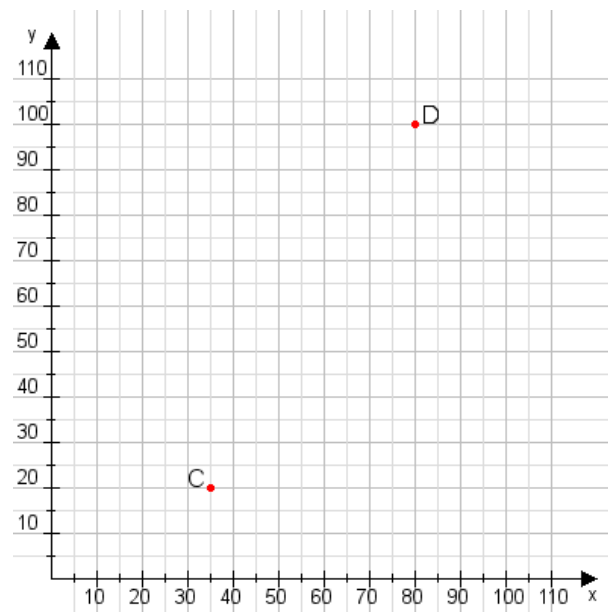
Aufgabe 1:

Zeichne den Punkt A(30|50) und den Punkt B(115|105) in das Koordinatensystem ein und verbinde beide Punkte miteinander. Verbinde die Eingetragenen Punkte C, D und ermittle deren Koordinaten.



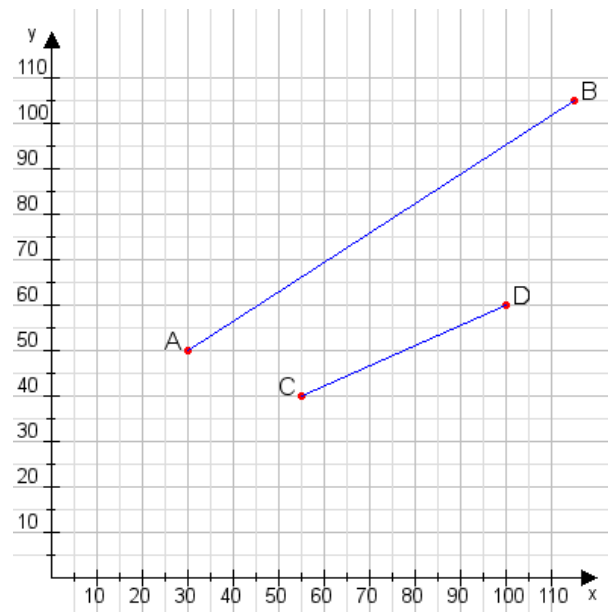
Aufgabe 2:

Zeichne den Punkt A(55|20) und den Punkt B(105|100) in das Koordinatensystem ein und verbinde beide Punkte miteinander. Verbinde die Eingetragenen Punkte C, D und ermittle deren Koordinaten.



Aufgabe 1:

C(55|40), D(100|60)



Aufgabe 2:

C(35|20), D(80|100)

