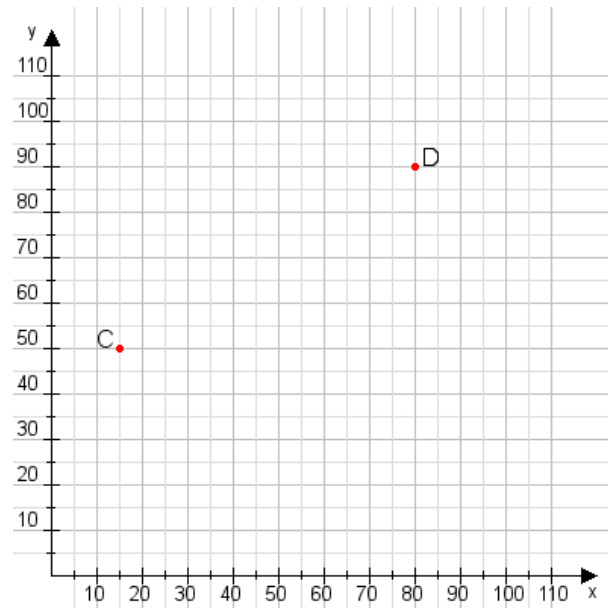


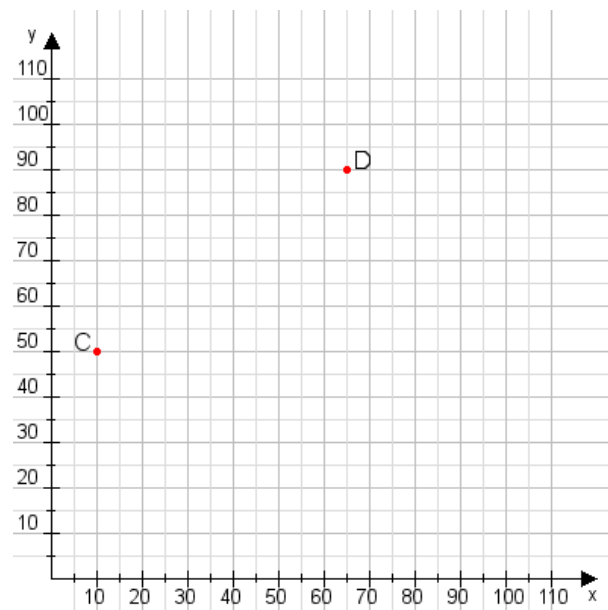
Aufgabe 1:

Zeichne den Punkt A(55|25) und den Punkt B(60|100) in das Koordinatensystem ein und verbinde beide Punkte miteinander. Verbinde die Eingetragenen Punkte C, D und ermittle deren Koordinaten.



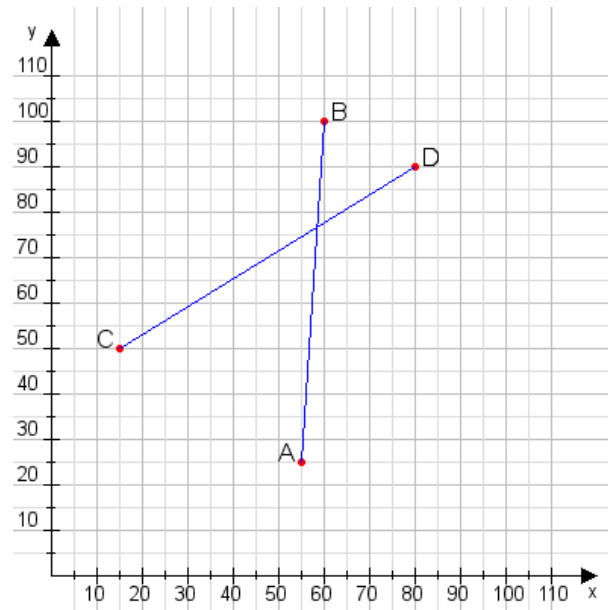
Aufgabe 2:

Zeichne den Punkt A(45|35) und den Punkt B(110|80) in das Koordinatensystem ein und verbinde beide Punkte miteinander. Verbinde die Eingetragenen Punkte C, D und ermittle deren Koordinaten.



Aufgabe 1:

C(15|50), D(80|90)



Aufgabe 2:

C(10|50), D(65|90)

