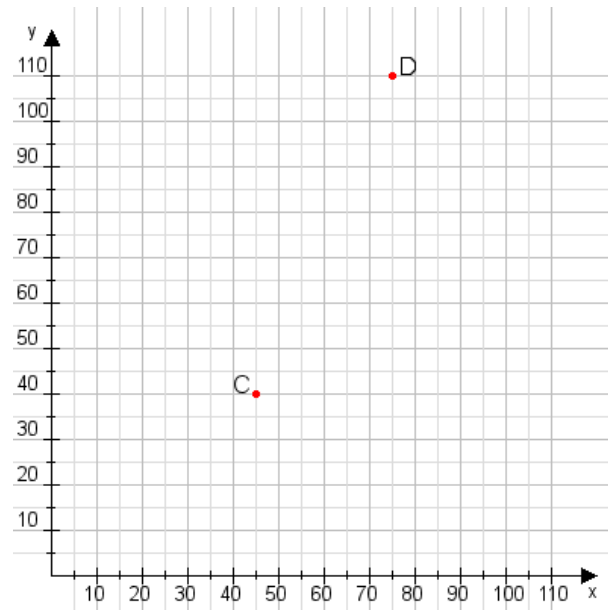


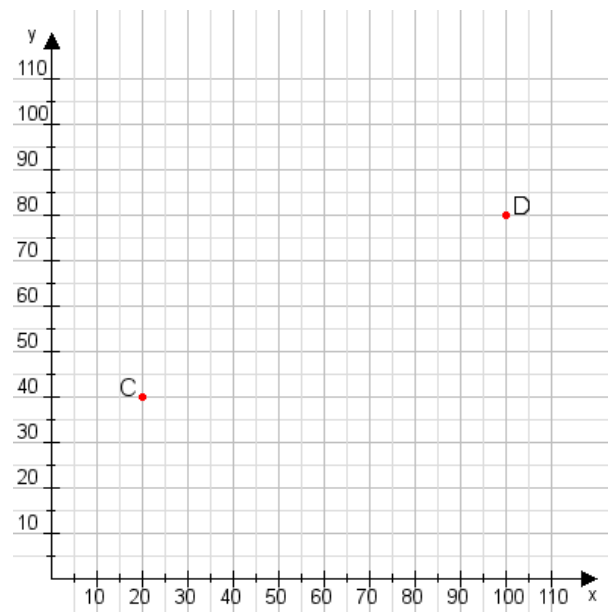
**Aufgabe 1:**

Zeichne den Punkt A(20|25) und den Punkt B(90|60) in das Koordinatensystem ein und verbinde beide Punkte miteinander. Verbinde die Eingetragenen Punkte C, D und ermittle deren Koordinaten.



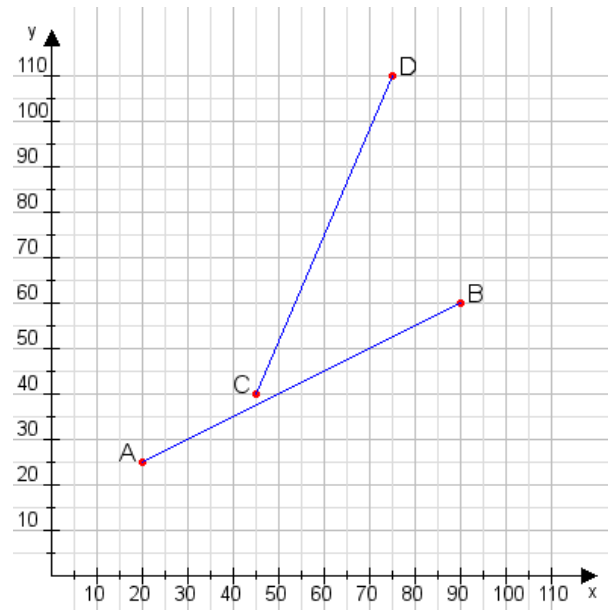
**Aufgabe 2:**

Zeichne den Punkt A(50|30) und den Punkt B(95|90) in das Koordinatensystem ein und verbinde beide Punkte miteinander. Verbinde die Eingetragenen Punkte C, D und ermittle deren Koordinaten.



**Aufgabe 1:**

C(45|40), D(75|110)



**Aufgabe 2:**

C(20|40), D(100|80)

